

# 2026 年初中毕业生学业水平考试

## 社会学科

考生注意：

1. 本试题卷分判断题、选择题和综合题三部分，共 9 页，满分 100 分，考试时间 100 分钟。
2. 答题前，请务必将自己的姓名、准考证号用黑色字迹的签字笔或钢笔分别填写在试题卷和答题纸规定的位置上。
3. 答题时，请按照答题纸上“注意事项”的要求，在答题纸相应的位置上规范作答，在本试题卷上的作答一律无效。

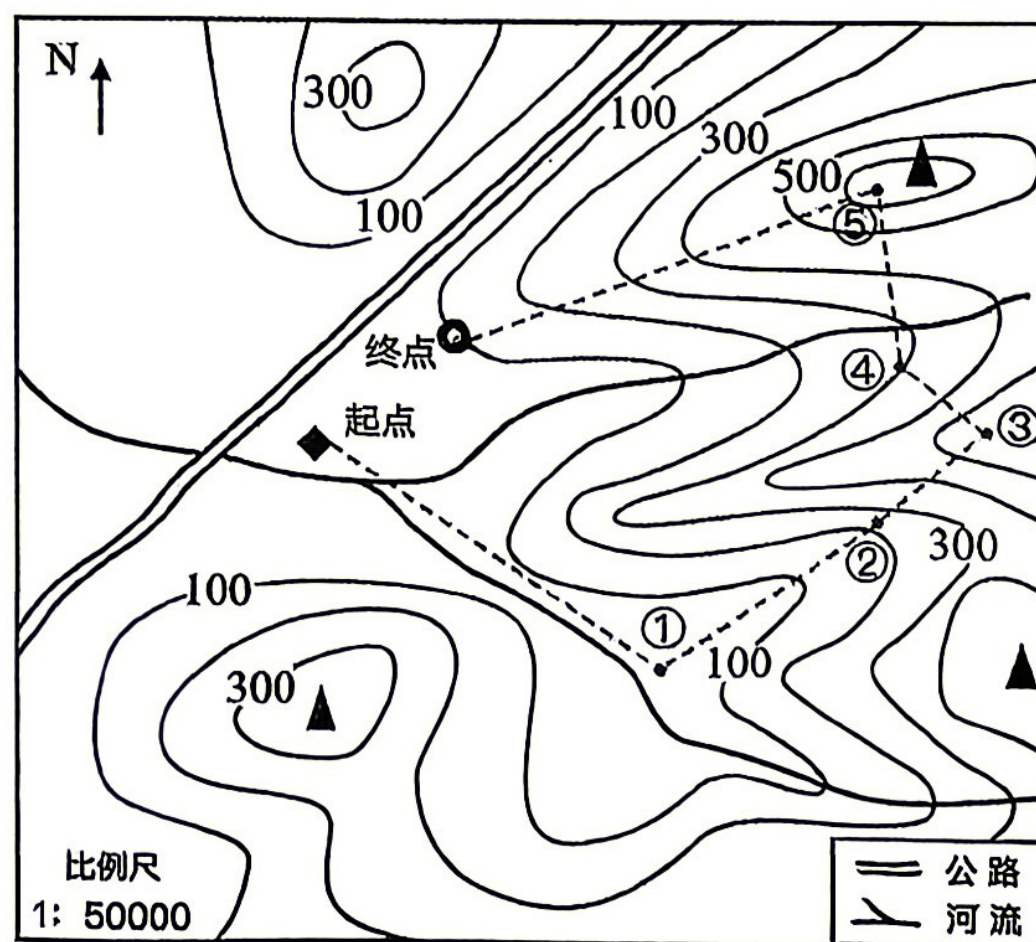
一、判断题(本大题有 8 小题，每小题 1 分，共 8 分。判断下列说法是否正确，正确的请将答题纸相应题号后的 T 涂黑，错误的请将答题纸相应题号后的 F 涂黑)

1. 非洲热带草原上的马赛人，以放牧为生，过着“逐水草而居”的生活。
2. 我国东北平原纬度较高、热量不足，不能种植水稻。
3. 唐朝时期进士科的创立，标志着科举制的正式确立。
4. 中共十一届三中全会是新中国成立以来党的历史上具有深远意义的伟大转折，开启了改革开放和社会主义现代化建设新时期。
5. 起源于法国的文艺复兴运动，为法国大革命作了重要的理论准备。
6. 面对挫折，发掘自身的生命力量，可以逐渐培养自己面对困难的勇气和坚强的意志。
7. 人人都是维护国家安全的主角，每个公民都应积极履行维护国家安全的法定义务。
8. 中国精神就是以改革创新为核心的民族精神和以爱国主义为核心的时代精神。

二、选择题(本大题有 20 小题，每小题 2 分，共 40 分。每小题列出的四个备选项中只有一个是符合题目要求的，不选、多选、错选均不给分)

2026 年 4 月，浙江省青少年定向锦标赛在嘉兴平湖举办。下面是某队训练用图，队员按照地图，依次到达①-⑤处点标打卡，用时最短者获胜。据此完成第 9-10 题。

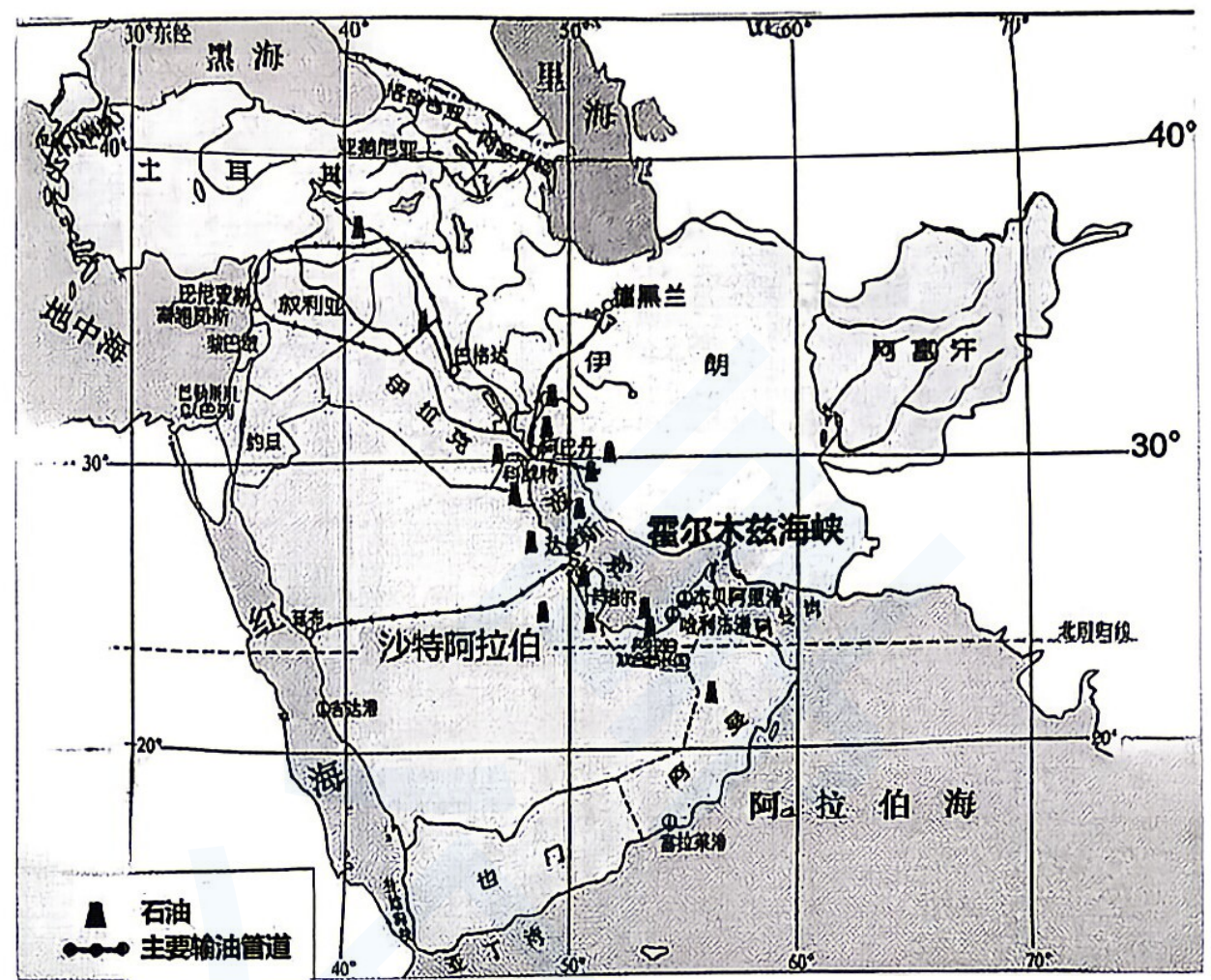
9. 图中①处附近的河流流向是
- A. 自东南向西北      B. 自西向东  
C. 自东北向西南      D. 自北向南
10. 下列关于训练路线的表述，正确的是
- A. ①-②段的坡度比②-③段更陡  
B. 从③处到④处是上坡路段  
C. ④处与终点之间的相对高度是 300 米  
D. 五个点标中海拔最高的是⑤处



第 9-10 题图

读西亚石油的分布图，回答第 11-12 题。

11. 关于该地区的描述，正确的有
- ① 西亚位于西半球、北半球
  - ② 伊朗首都德黑兰地处热带和低纬度
  - ③ 沙特阿拉伯可通过输油管道将石油输送到红海沿岸
  - ④ 石油主要分布在波斯湾及其沿岸地区
- A. ①②                      B. ①④  
C. ②③                      D. ③④



第 11-12 题图

12. 关于霍尔木兹海峡的描述，正确的是
- A. 连接黑海与地中海
  - B. 沟通太平洋与大西洋
  - C. 是亚洲与欧洲的分界线
  - D. 是波斯湾沿岸地区的出海通道


13. 考古学家在某遗址中发现了木结构水井和大量水稻遗存，右图是该遗址先民的建筑复原想象图。据此判断该遗址是



第 13 题图

- A. 元谋人遗址                      B. 北京人遗址
- C. 河姆渡遗址                      D. 半坡遗址

14. 某位同学制作了下面的历史人物卡片，该历史人物是

 <p>行医画像石拓片（局部）</p>	<ul style="list-style-type: none"> <li>➤ 生活时期：春秋战国之际</li> <li>➤ 医学成就：用针刺、按摩、汤药等多种方法治疗疾病。总结出的望、闻、问、切四种诊断疾病的方法，一直被中医沿用至今。</li> </ul>
--	--

- A. 扁鹊                                  B. 华佗                                  C. 张仲景                                  D. 李时珍

15. 《北京学界全体宣言》呼吁：“务望全国工商各界，一律起来设法开国民大会，外争主权，内除国贼。中国存亡，就在此一举了！”该宣言所反映的历史事件是

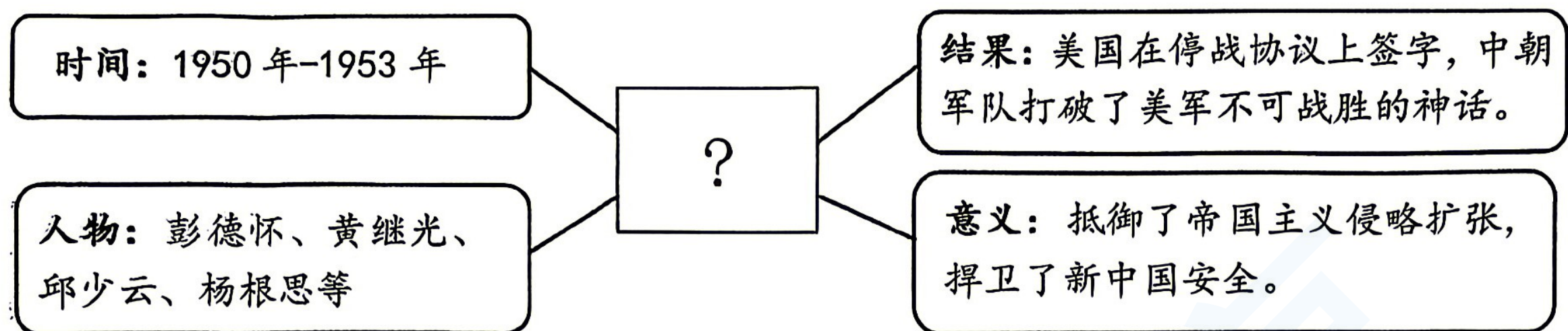
- A. 戊戌变法                      B. 辛亥革命                      C. 五四运动                      D. 一二·九运动

16. 2026 年是长征胜利 90 周年。某同学想了解长征的历史，最适合考察的历史遗迹是



- A. 南昌起义总指挥部旧址      B. 古田会议会址                      C. 遵义会议会址                      D. 西安事变谈判旧址

17. 某同学在学习“巩固人民民主政权”主题时绘制了以下思维导图，其反映的历史事件是



- A. 土地改革      B. 抗美援朝      C. 三大改造      D. 一五计划

18. 某班同学开展“寻找帝国身影”的跨学科主题学习，并绘制了如下知识图谱。该帝国是

相关课程内容			
语文	数学	地理	美术
经典故事集《天方夜谭》	改造了古印度人从0到9的计数法	地跨亚、欧、非三大洲	建筑以圆顶、拱门为特色

- A. 亚历山大帝国      B. 罗马帝国      C. 拜占庭帝国      D. 阿拉伯帝国

19. 右边漫画名为《德国向英国发起挑战》，画面中德国水手挥舞着大旗，向英国海上霸权发起冲击。该漫画反映了当时的历史背景是

- A. 第一次工业革命后，英国开始在海外扩张殖民地  
 B. 19世纪后半期，德国要求重新瓜分世界  
 C. 第一次世界大战后，德国公开撕毁《凡尔赛条约》  
 D. 第二次世界大战前，德国法西斯扩军备战



第19题图

20. 2026年以来，美以伊冲突加剧中东局势紧张，局部地区动荡不断。与此同时，我国持续推进“一带一路”高质量发展，积极参与联合国维和行动，推动全球发展倡议、全球安全倡议。这体现了当今时代主题是

- A. 机遇与挑战      B. 和平与发展      C. 公平与正义      D. 竞争与合作

21. 教育部推动课间活动由原来的10分钟延长到15分钟，落实中小學生每天2小时的体育综合运动要求，丰富学校的体育“运动菜单”。此举旨在帮助学生

- A. 全面认识自我      B. 杜绝消极情绪      C. 保持身心健康      D. 学会独立思考

22. 贺娇龙生前是新疆维吾尔自治区农产品品牌建设与产销服务中心主任，她扎根边疆多年，主动通过直播助农，推动地方文旅建设，用生命践行初心使命，被评为2026年最美巾帼奋斗者。她的事迹启示我们要

- ①珍惜宝贵生命，避免任何风险挑战      ②努力奉献社会，勇于承担社会责任  
 ③积极服务社会，放弃一切个人利益      ④热爱本职工作，努力实现人生价值
- A. ①②      B. ①③      C. ②④      D. ③④

23. 2026 年是“十五五”规划开局之年，今年“两会”的相关内容与其解读搭配正确的有

	内容	解读
①	规范市场恶性竞争、优化营商环境	充分发挥政府在资源配置中的决定性作用
②	表决通过关于《国民经济和社会发展第十五个五年规划纲要》的决议	全国人民代表大会积极行使立法权
③	做到“投资于人”，把更多资金资源投向人的发展、服务于民生需求	党和政府坚持以人民为中心的发展思想
④	统筹国家战略科技力量建设，深化科研院所改革	国家用改革之手激活创新引擎

- A. ①②                      B. ①③                      C. ②④                      D. ③④

24. 《全民阅读促进条例》于 2026 年 2 月正式施行，它是我国首部全民阅读领域的行政法规。条例规定，国家鼓励开展内容健康向上、展现文化底蕴、形式丰富多样的全民阅读推广活动，构建全民覆盖、普惠高效的全民阅读促进体系。该条例实施有利于


- ①以专注学习替代社会实践                      ②消除文化差异，超越文明隔阂  
③为全民阅读提供法治保障                      ④学习和借鉴人类文明的一切优秀成果

- A. ①②                      B. ①③                      C. ②④                      D. ③④

25. 漫画《打击“人肉开盒”行为》反映了国家有关部门重拳整治网络非法获取、泄露、传播他人个人信息等违法活动。

对该漫画解读正确的是

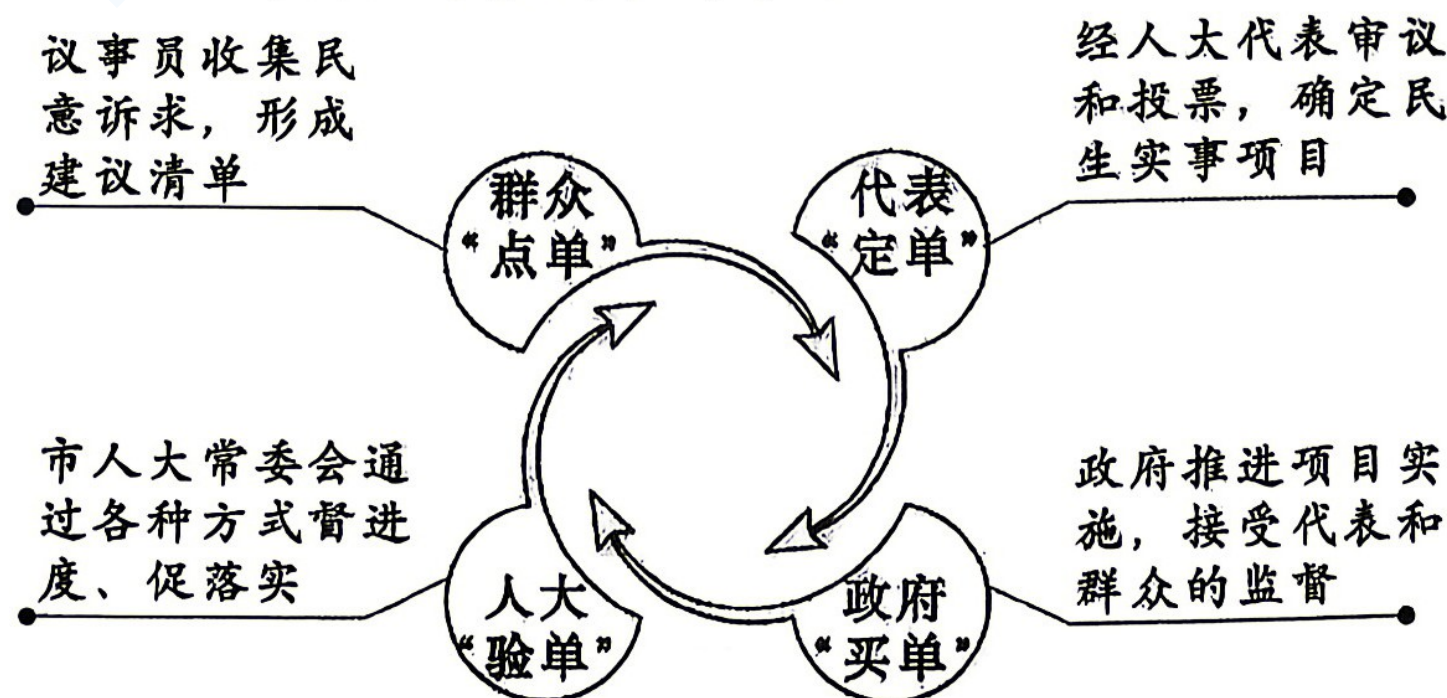
- A. 必须远离网络，加强信息节食  
B. 保护个人隐私，增强防范意识  
C. 该行为是犯罪，一律从严打击  
D. 网络言论自由，不受任何约束



打击“人肉开盒”行为 新华社发 朱慧卿 作

第 25 题图

26. 浙江某市迭代民生实事票决制，构建了如下机制。对该机制认识正确的是



- A. “点单”有利于民主决策满足人民一切诉求  
B. “定单”体现了民主选举要遵循公开的原则  
C. “买单”说明政府要对人民负责受人民监督  
D. “验单”保障了人民群众直接行使国家权力

27. 《中华人民共和国生态环境法典》将生态保护纳入法治轨道，成为我国第二部以“法典”命名的法律。该法典的出台

- ①确立了其在我国根本法的地位
- ②完善了中国特色社会主义法律体系
- ③意味着生态文明建设是我国当前的首要任务
- ④体现了坚持“绿水青山就是金山银山”理念

A. ①②                      B. ①③                      C. ②④                      D. ③④

28. 从天津上合峰会到北京全球妇女峰会，一系列重磅主场外交活动成功举办，习近平提出全球治理倡议，我国国际影响力持续提升。对此解读正确的是

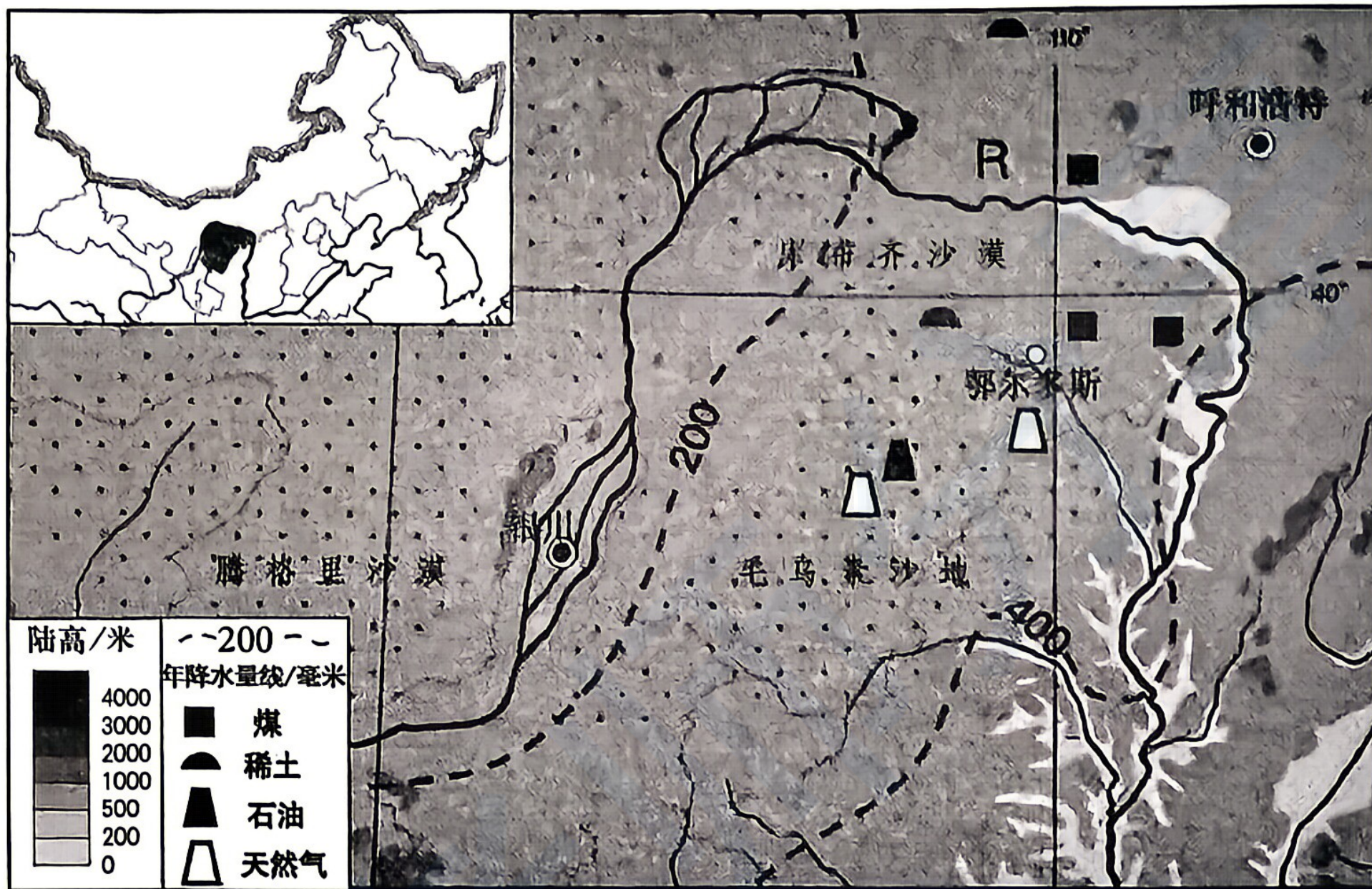
- ①我国积极开展中国特色大国外交
- ②中国参与全球治理，主动承担国际责任
- ③中国加快构建国际大循环为主体的新发展格局
- ④国际竞争的实质是以外交实力为基础的综合国力的较量

A. ①②                      B. ①③                      C. ②④                      D. ③④

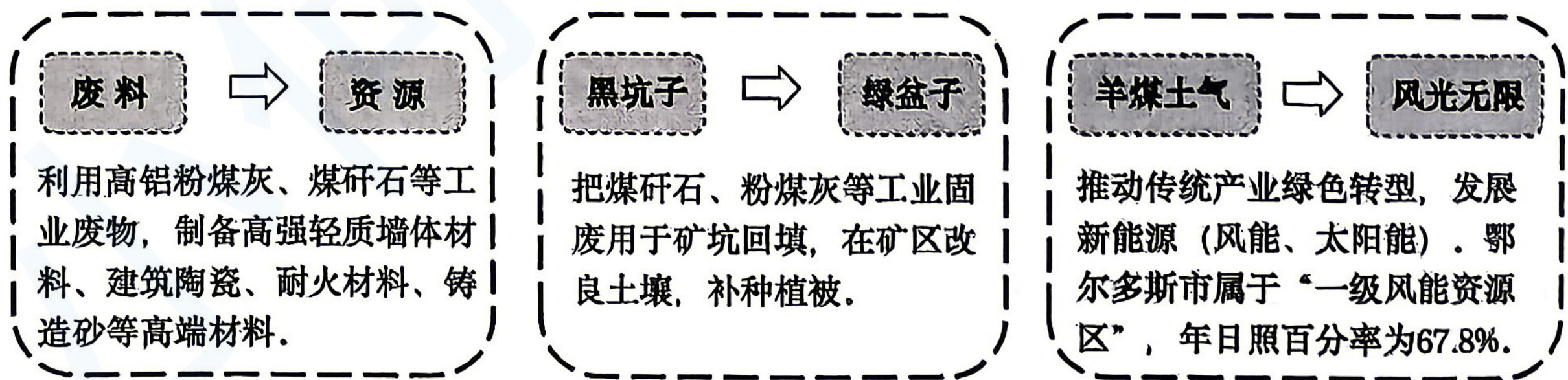
三、综合题（本大题有4小题,共52分）

29. (10分) 3月30日是“国际无废日”。作为全国113个“无废城市”试点之一,鄂尔多斯市在这方面取得了较好成效。阅读材料,回答问题。

材料一:鄂尔多斯市位置示意图。



材料二:鄂尔多斯市位于我国干旱、半干旱区,不利于大规模发展种植业。过去,人们常用“羊煤土气”(羊绒、煤炭、稀土、天然气)来概括当地得天独厚的自然资源。近年来,随着煤炭产量攀升,工业固体废物量亦同步增长。鄂尔多斯市在工业固废资源化利用和产业转型方面积极探索,打造“无废城市”(措施如下图)。










(1) 鄂尔多斯市位于R\_\_\_\_\_ (填河流)的“几字湾”腹地,该市降水空间分布的总体特征是\_\_\_\_\_,制约当地农业发展的主要自然因素是\_\_\_\_\_。(4分)

(2) 指出鄂尔多斯市发展“羊煤土气”相关产业的有利条件。(2分)

(3) 结合上述材料,分析鄂尔多斯市建设“无废城市”措施的意义。(4分)

30. (11分) 中国人民是具有伟大创造精神的人民, 璀璨的科创光芒在世界历史中留下鲜明的注脚。阅读材料, 回答问题。

 <p>宋代持罗盘的立人陶俑</p>  <p>毕昇塑像</p>  <p>宋代火器示意图</p>	<p>1862年, 徐寿、华蘅芳手工仿造中国首台实用蒸汽机, “以火蒸水, 运转自如”。曾国藩叹: “洋人之智巧, 我中国人亦能为之。”该机依样仿制, 未深原理, 仅供军工。</p> <p>——据《中国历史》等整理</p>  <p>徐寿、华蘅芳</p>	<p>《齐民要术》告诉我敬畏土地。这本书里“顺天时, 量地利”的思想, 正是杂交水稻尊重自然规律的灵魂!</p> <p>——《袁隆平口述自传》</p>  <p>袁隆平</p>
<p>……这是预兆资产阶级社会到来的三大发明……这三种东西曾经改变了整个世界事物的面貌和状态。</p> <p>——马克思</p>  <p>马克思</p>	<p>18世纪中期, 瓦特改良蒸汽机。1785年投入使用, 提供了更加便利的动力。后来, 化工、冶金、采矿等许多生产部门都开始使用蒸汽机。到19世纪30年代, 蒸汽机成为主要的动力来源。</p> <p>——据《世界历史》等整理</p>  <p>瓦特</p>	<p>自1979年起, 杂交水稻远播五大洲近70国, 为各国粮食增产和农业发展作出突出贡献, 为解决发展中国家粮食短缺问题提供了中国方案。</p> <p>——摘编自习近平主席向“杂交水稻援外与世界粮食安全”国际论坛致辞</p>

- (1) 根据材料, 运用所学知识指出马克思所说的“预兆资产阶级社会到来的三大发明”。(3分)
- (2) 对比材料中近代中西方蒸汽机的应用, 分析两者的不同之处, 并分别说明其对本国社会发展产生的影响。(4分)
- (3) 从两个不同角度概括上述材料中科技成就的共同特征, 并运用史实加以阐述。(4分)

31. (11分) “幽灵外卖”现象扰乱市场秩序，危害食品安全。阅读材料，回答问题。

“幽灵外卖”指无实体经营场所的外卖商户，通过伪造门店信息等方式违规入驻外卖平台，虚假宣传误导消费者。



某地市场监管局现场检查发现，某馄饨店老板通过制图软件修改营业执照并伪造食品经营许可证，在外卖平台注册店铺。市场监管局依法对该老板的违法行为作出罚款5000元并责令整改的处罚。

(1) 运用所学知识，判断材料中老板的行为是什么违法行为？从法治与自由关系的角度，对其行为进行分析。(5分)

(2) 从厉行法治的角度，谈谈如何整治“幽灵外卖”乱象，守护舌尖上的安全。(6分)

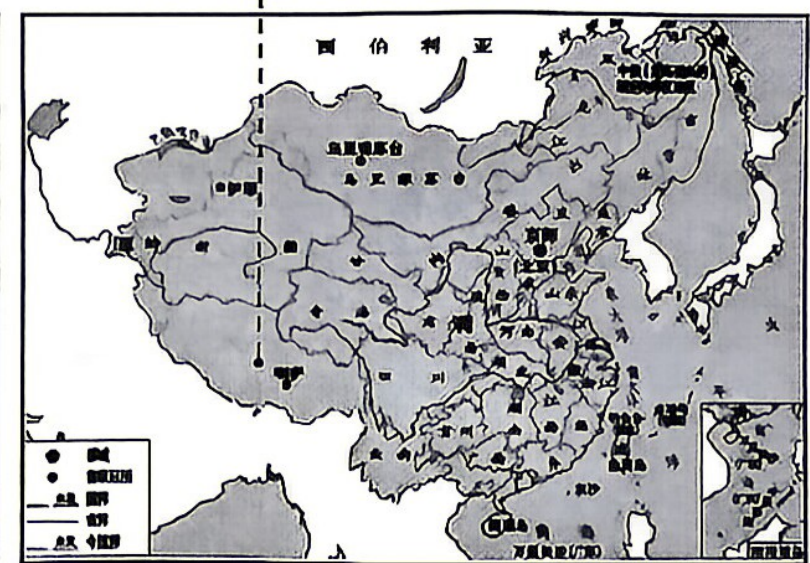
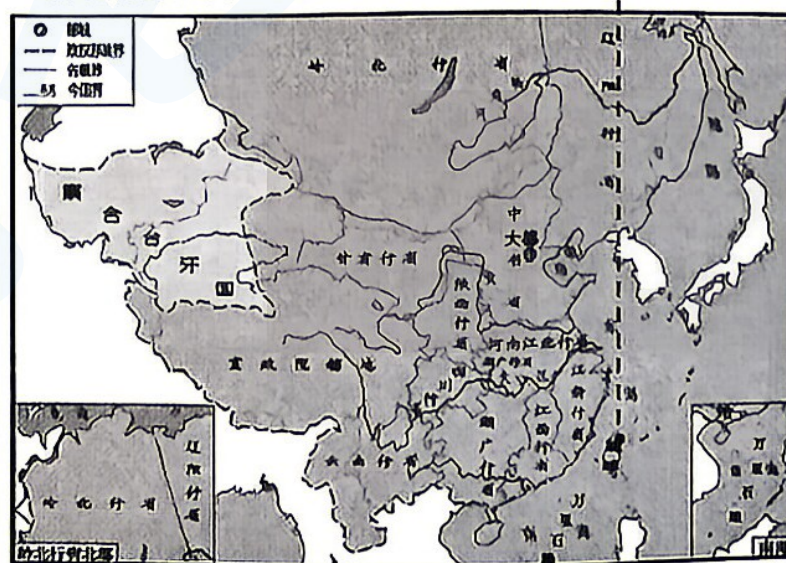
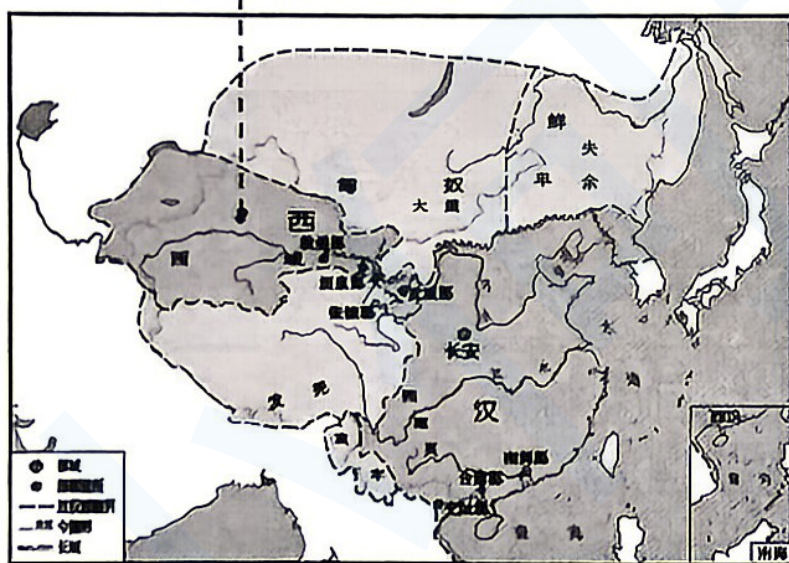
32. (20分) 中国各族人民在长期交往交流交融中，共同开拓了祖国的辽阔疆域，共同缔造了统一的多民族国家，共同书写了辉煌的中国历史。阅读材料，回答问题。

材料一：

设置①(填机构)标志着西域正式归属中央政权。

②(填朝代)设置澎湖巡检司，中央政府首次在台湾地区正式建立行政机构。

设置噶厦，有效加强了对③(填地方)的管辖。



(1) 填写①②③处对应的内容，并列举一位边疆治理的历史人物及其功绩。(5分)

材料二：

时间	史实
1874年	日本派军队进攻台湾，台湾人民据险反击，清政府率兵入台，部署防务
19世纪70-80年代	新疆各族人民主动配合清军作战，痛击侵略者。清政府在新疆建省，改称西域为“新疆”
1947年	内蒙古自治区成立
1951年	西藏和平解放

1954年	民族区域自治制度被载入宪法
1955年	新疆维吾尔自治区成立
1965年	西藏自治区成立

——据《中国历史》整理

(2) 综合上述材料及所学知识，自拟观点，运用史实加以阐述。(5分) (要求：观点正确，史论结合，条理清楚)

材料三：党的十八大以来，以习近平同志为核心的党中央高度重视民族工作，鲜明提出把铸牢中华民族共同体意识作为新时代党的民族工作主线、民族地区各项工作的主线。习近平总书记指出，全面建设社会主义现代化国家，一个民族也不能少，各民族要像石榴籽一样紧紧抱在一起。

- 时政速递
- ▶ 2025年是新疆维吾尔自治区成立70周年、西藏自治区成立60周年，各地相继举办纪念活动。几十年来，民族地区经济快速发展，文化互鉴交融，民生全面改善。
  - ▶ 2025年9月，花江峡谷大桥建成通车。作为世界最高跨江大桥，打通了黔西南布依族苗族聚居区交通瓶颈，为当地经济增长与乡村振兴注入强劲动力。
  - ▶ 国家深入推进新时代兴边富民行动，实施“民营企业进边疆”行动，累计吸引超2300亿元投资。浙疆同心，浙江助力落地新疆轻纺城、新疆（新和）水晶钻饰产业园等一批援疆标杆工程，带动各族群众就近就业。

(3) 根据材料三，运用所学知识，谈谈你对“全面建设社会主义现代化国家，一个民族也不能少”的理解。(6分)

材料四：2026年3月，十四届全国人大四次会议表决通过《中华人民共和国民族团结进步促进法》，该法自7月1日起施行，以国家立法形式为民族地区发展与团结提供坚实法治保障。

- 法律链接
- 第十条 中华人民共和国公民有维护国家统一和全国各民族团结的义务，应当维护国家主权、安全、发展利益。
  - 第二十九条 ……各级人民政府应当依托中华民族丰富的文化、体育等各类资源，鼓励和支持举办各族群众喜闻乐见、共同参与的中华民族传统节日、民俗文化、体育赛事等交流活动。
  - 第五十四条 公民对破坏民族团结进步的行为有权进行投诉和举报，对国家机关及其工作人员不履行或者不正确履行铸牢中华民族共同体意识、促进民族团结进步法定职责的行为有权进行检举。

(4) 综合上述材料，简述我们该如何推进中华民族共同体建设。(4分)