

2026 年初中毕业升学模拟检测（一）

道德与法治·历史与社会

考生须知：

1. 本科目为闭卷考试。
2. 本试卷分试题卷和答题卷两部分。满分 100 分，考试时间 100 分钟。
3. 答题前，必须在答题纸指定位置填写学校、班级、姓名、座位号。
4. 所有答案都必须做在答题卷标定的位置上，务必注意试题序号和答题序号相对应。

试题卷

一、判断题（本大题有 8 小题，每小题 1 分，共 8 分。判断下列说法是否正确，正确的写 T，错误的写 F）

1. 小滨为入校参观的新同学绘制了学校平面图。该图的比例尺应该是大比例尺。
2. 导致青藏高原光照强的最主要因素是纬度较低。因此，该区域适合发展光伏产业。
3. “红军不怕远征难，万水千山只等闲……”，毛泽东这首诗赞扬了红军无所畏惧的英雄气概。
4. 到 1956 年底，第一个五年计划超额完成，标志着社会主义制度在我国确立。
5. 《人权宣言》是第一个以国家名义明确表述资产阶级政治要求的纲领性文献。
6. “人贵自知”，说明自我评价比他人评价更重要。
7. 解决台湾问题、实现祖国完全统一，是实现中华民族伟大复兴的必然要求。
8. 中国在伊朗问题上主张尊重各国主权，反对外部干涉，彰显了构建人类命运共同体的大国担当。

二、选择题（本大题有 20 小题，每小题 2 分，共 40 分。请选出各题中一个最符合题意的正确选项，不选、多选、错选均不给分）

2025 年 9 月，中俄蒙签署“西伯利亚力量 2 号”天然气管道项目备忘录，2 号管道设计年输 500 亿方天然气入华。同时增加 1 号管道输气量。回答 9-10 题。

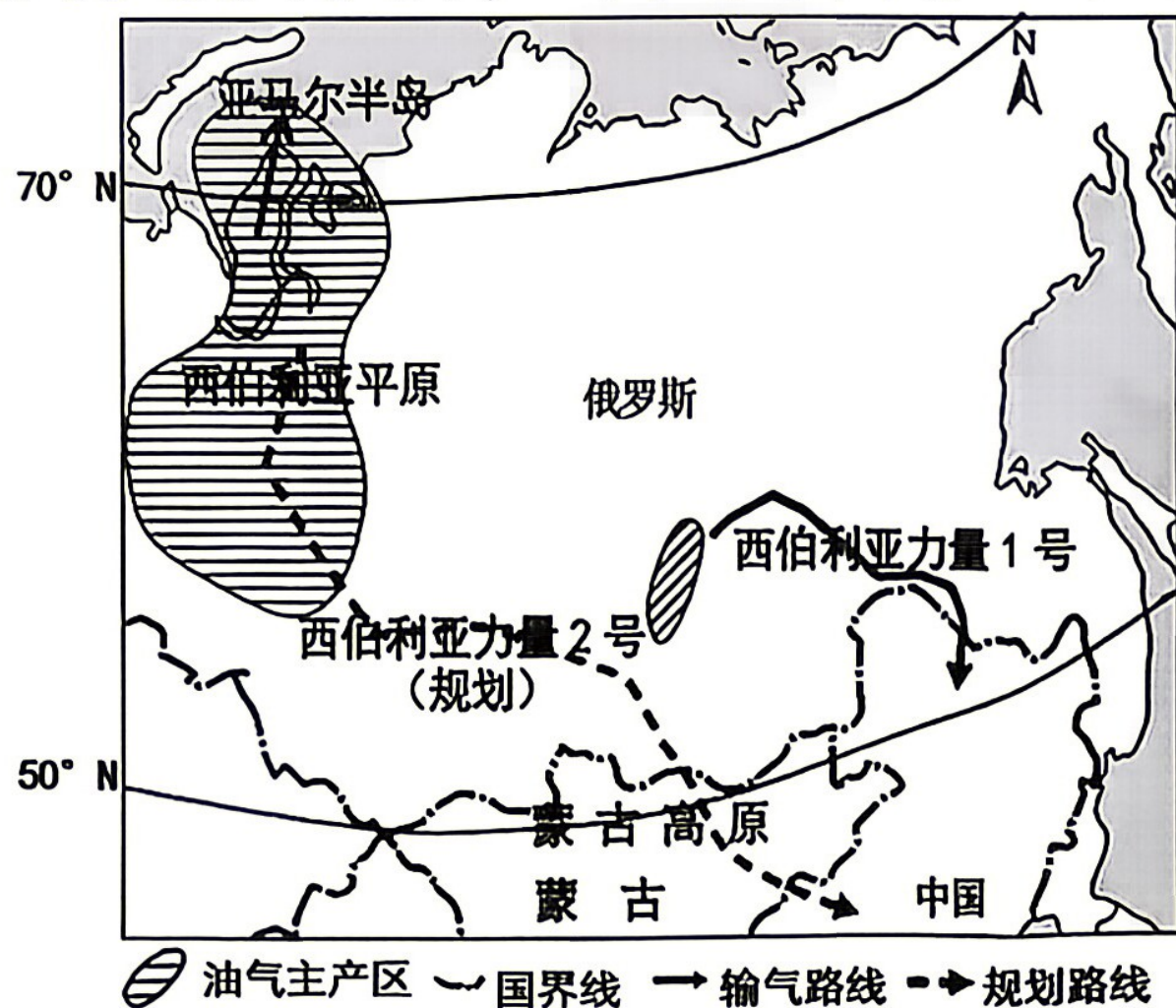
9. 下列关于图中信息的描述，正确的是

- A. 纬度高，气候严寒不利于输气工程的修建
- B. 两个输气工程都从俄罗斯直接送气到中国
- C. 规划管道沿线地势平坦，修建的难度不大
- D. 亚马尔半岛濒临大西洋，地形以平原为主

10. 该工程

- ①缓解我国能源供应紧张，保障能源安全
- ②增加我国清洁能源供应，消除大气污染
- ③有助于俄罗斯把资源优势转化为经济优势
- ④优化俄罗斯能源消费结构，减轻就业压力

- A. ①③ B. ①④ C. ②③ D. ②④



西伯利亚力量天然气管道线路图
第 9-10 题图

铸牢中华民族共同体意识，共绘新时代新疆发展的壮美画卷。完成 11-12 题。

11. 2025 年新疆粮食总产量居全国第十三，粮食单产蝉联全国第一。新疆成为“新粮仓”的条件有

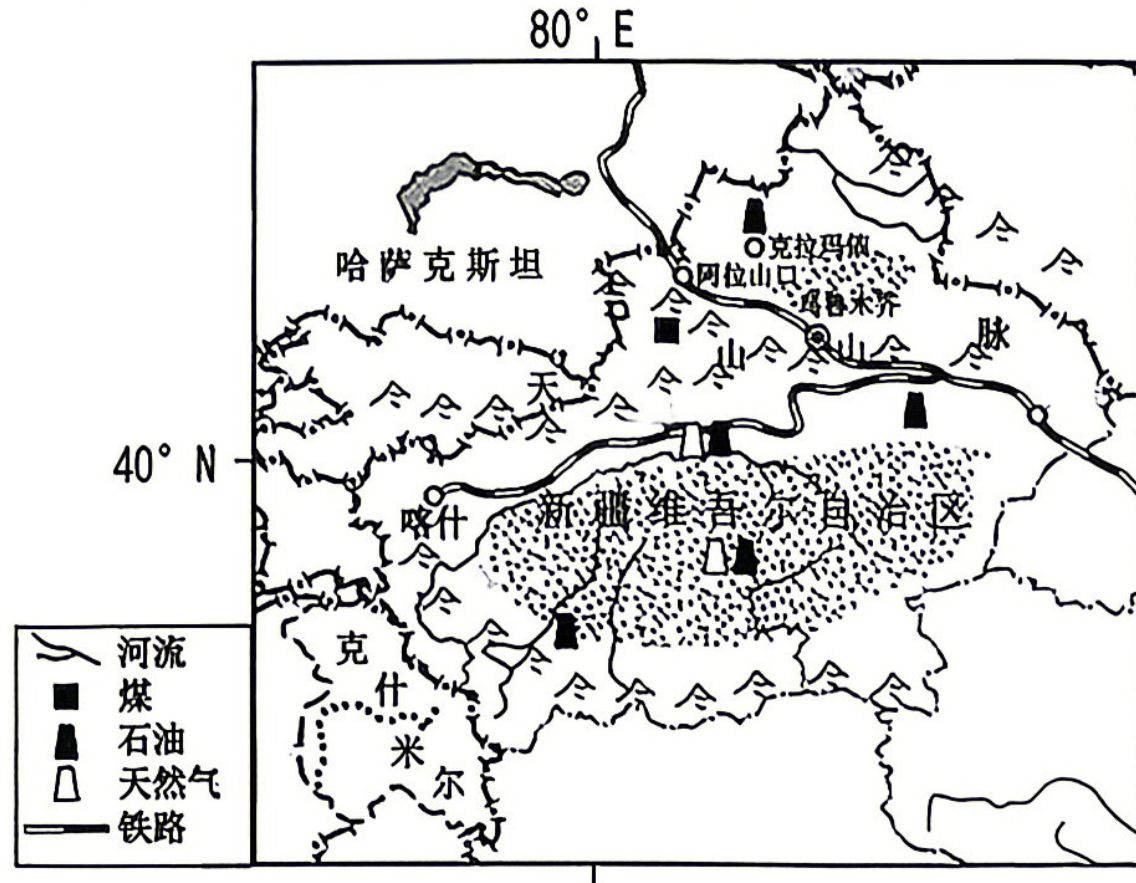
- ①夏季高温光照充足，昼夜温差大
- ②推广节水灌溉，提高水资源利用率
- ③土地面积广阔，水资源非常丰富
- ④建设高标准农田，实现科学化管理

- A. ①②③ B. ①②④ C. ①③④ D. ②③④

12. 下列关于新疆的发展, 符合可持续发展理念的有

- ①加大油气资源的开采力度 ②依托风能和太阳能, 实现能源绿色转型
③依托独特条件发展旅游业 ④深化“一带一路”, 加强区域经贸合作

- A. ①②③ B. ①②④ C. ①③④ D. ②③④



农田里的滴灌设备



高标准农田水肥一体化操作



机械化收割小麦

第 11-12 题图

13. 浙江衢州皇朝墩遗址(距今约 9300 年至 8000 年)发现有台地、环壕及水稻田等重要遗迹。据此可知, 该遗址

- A. 生产工具以打制石器为主 B. 主要的生产方式有采集和渔猎
C. 为新石器时代的聚落遗址 D. 证实粟作农业起源于长江下游

14. 唐代地理书《元和郡县图志》曾描述某水利工程, “公家运漕, 私行商旅……隋氏作之虽劳, 后代实受其利焉”。该工程的修建有利于

- A. 珠江水患的治理 B. 巴蜀地区的开发
C. 国家统一的巩固 D. 郡县制度的推广

15. 洋务派官员多次向朝廷上奏请求批准架设电报线路, 下表为 19 世纪 70-80 年代部分奏请铺设电报线路。由表可知, 洋务派旨在

- A. 加强国防安全
B. 抵制外资侵略
C. 镇压国内叛乱
D. 推广新式交通

时间	上奏人	主要路线
1874 年	沈葆楨	福州到台湾
1883 年	张树声	广州至广西龙州
1886 年	刘铭传	台湾岛内

第 15 题表

16. “我们今天是桃李芬芳/明天是社会的栋梁/我们今天弦歌在一堂/明天要掀起民族自救的巨浪/巨浪巨浪/不断地增涨/同学们同学们/快拿出力量/担负起天下的兴亡”。这是创作于 1934 年, 由田汉作词的《毕业歌》的部分歌词。由此可知, 该歌曲的创作是为了

- A. 歌颂中国工农红军长征 B. 呼应西安事变和平解决
C. 鼓励北伐战士消灭军阀 D. 激发民众抗日救亡热情

17. 毛泽东曾说: “延安是我们的, 我们在这里开了窑洞, 种了小米。”但 1947 年 3 月, 中共中央却主动撤离延安, 这一行动反映了我军

- A. 军事指挥策略灵活 B. 拉开战略进攻序幕 C. 配合正面战场作战 D. 取得战略决战胜利

18. 邮票是纪念历史的载体之一。图示邮票中的历史事件反映发展中国家的共同诉求是

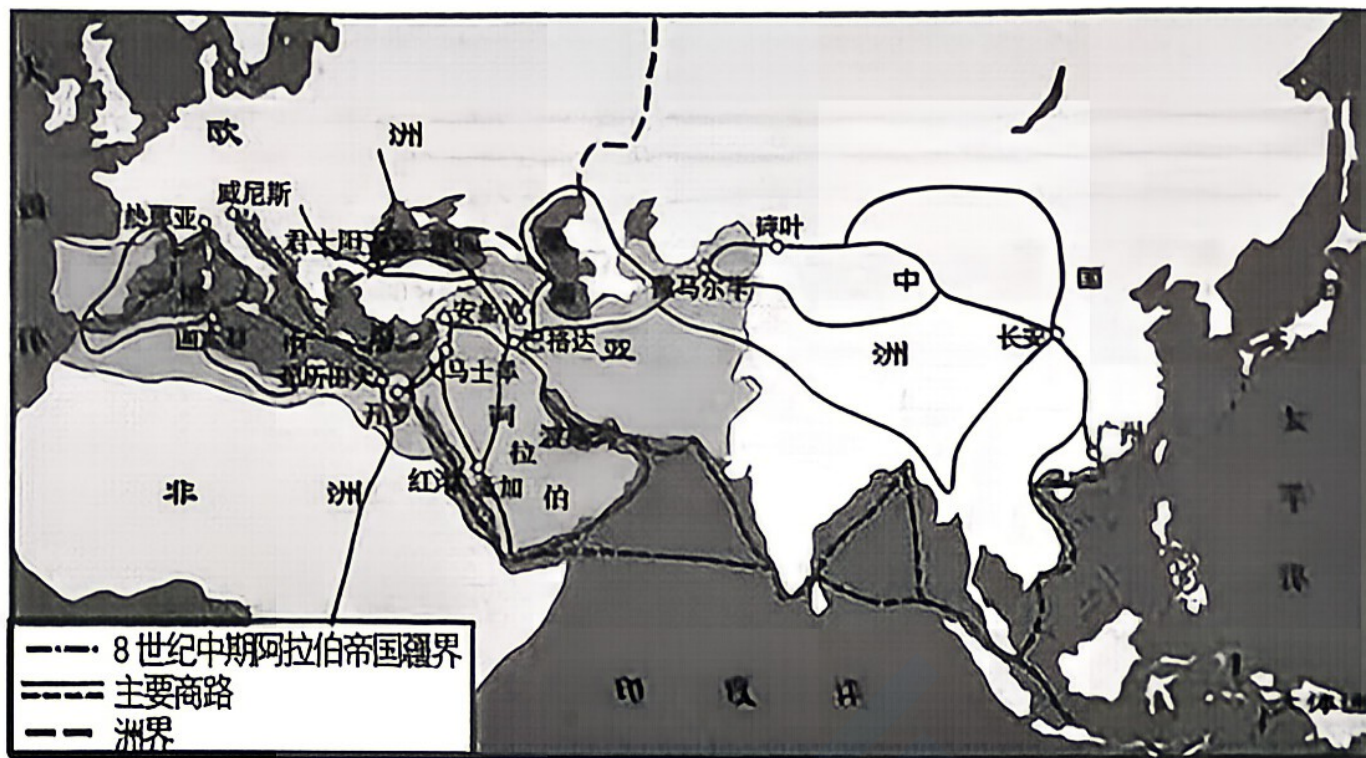
- A. 反对孤立主义, 谋求共同发展 B. 反对霸权主义, 构建国际新秩序
C. 打击恐怖主义, 维护世界安全 D. 打破贸易壁垒, 推动资本的流通



万隆会议十周年纪念邮票

第一届不结盟运动
60周年纪念邮票

第 18 题图



第 19 题图

19. 上图为《阿拉伯人商业活动示意图》。从图中可以获取的信息是

- A. 罗马帝国成为地跨欧、亚、非三洲的大帝国
- B. 奥斯曼土耳其帝国垄断了东西方贸易的要道
- C. 阿拉伯人担当了沟通东西方贸易、文化的角色
- D. 唐朝陆上丝绸之路在东西交通中的重要性下降

20. 某校九年级举办“看电影，学历史”的学科实践活动，为同学们播放了《凡尔登，历史的幻影》、《血战台儿庄》、《斯大林格勒》和《珍珠港》四场电影。你觉得下列主题与本次活动最匹配的是

- A. 中国人民抗日战争优秀影展
- B. “第一次世界大战”备忘录
- C. 世界反法西斯战争影片鉴赏
- D. “战争与和平”历史启示录

21. 浙江“红船好少年”刘纪圣七岁时不幸身患恶性骨肉瘤，凭借顽强意志战胜病痛，重返校园后善思好问，成绩优异，并积极参与社区志愿服务。他的事迹启示我们应当

- ①直面挫折，发掘生命的力量
- ②奉献社会，实现自身的价值
- ③承担责任，追求荣誉与回报
- ④学会学习，养成良好的习惯

- A. ①②③
- B. ①②④
- C. ①③④
- D. ②③④

22. 2026 年是中国航天事业创建 70 周年。第一代航天人戚发轫曾言：“把国家利益放在心上，把平凡劳动干到极致，就是航天人最大的担当”；新一代航天人张陆誓言：“我们在太空坚守岗位，就是把国家利益举过头顶，用劳动托举航天强国梦”。一代代航天人生动诠释了

- ①实干必能实现目标
- ②劳动创造人生价值
- ③国家利益至高无上
- ④诚信助推国家发展

- A. ①②
- B. ①④
- C. ②③
- D. ③④

23. 2025 年 11 月，浙江省人大常委会上线全国首创备案审查智能系统，该系统运用 AI 技术审查规范性文件是否与宪法法律相抵触。这一举措有利于

- A. 创新审查方式，提升工作质效
- B. 纠正违宪行为，维护宪法权威
- C. 完善宪法内容，捍卫宪法效力
- D. 提高宪法地位，保障宪法实施

24. 右图漫画中做法

- ①有效落实对未成年人的社会保护
- ②是行政机关严格执法的具体表现
- ③彰显了以人民为中心的发展思想
- ④说明实现教育公平只能依靠政府

- A. ①②
- B. ①④
- C. ②③
- D. ③④

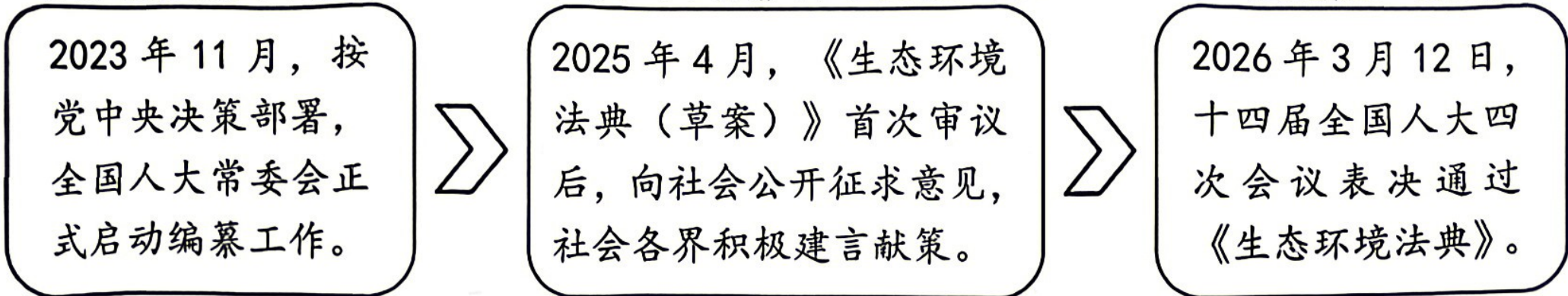


《持续治理》

王琪作品

第 24 题图

45. 法治护航美丽中国建设。以下是《中华人民共和国生态环境法典》的立法过程。该过程体现了



- ①中国共产党领导人民制定法律 ②民主监督有利于保证公民参与
- ③国家权力机关积极行使决定权 ④我国坚持依法治国的基本方略

A. ①② B. ①④ C. ②③ D. ③④

26. 某小组收集素材进行时政述评, 如果要为该时政述评确定主题, 最恰当的是

◇ 2026年首个“国际太极日”全球联动展演, 中华传统养生文化走向世界。
 ◇ 自贡彩灯、江南园林、非遗技艺等在多国展出, 春节文化在百余国落地生根。

- A. 摒弃外来文化, 坚持以我为主 B. 固守传统文化, 丰富自身内涵
- C. 坚守文化立场, 高扬民族精神 D. 推动文化交流, 彰显中国魅力

回眸“十四五”奋进路, 擘画“十五五”新蓝图。回答 27—28 题。

27. 下表为“十四五”期间我国部分发展指标。据此, 我们感受到

指标	2021 年	2025 年
城乡居民收入比	2.50: 1	2.45: 1
民营高新技术企业占比	85%以上	92%以上

- A. 发展成就显著, 国际地位稳步提升 B. 治理效能提升, 综合国力显著增强
- C. 民企地位提高, 成为国民经济主体 D. 城乡共同发展, 企业注重科技创新

28. 下列是小滨摘录的《十五五规划纲要》的部分内容。由此可知, 我国

统筹发展和安全, 建设更高水平的平安中国。完善各民族群众共居共学、共建共享、共事共乐的社会条件, 深化民族团结进步创建工作。坚持高水平对外开放, 奉行互利共赢的开放战略, 推动世界共同发展。

- ①重视国家安全发展大局, 保障国家安全 ②实行民族区域高度自治, 维护民族团结
- ③完善基层群众自治制度, 关注民主建设 ④奉行对外开放基本国策, 坚持合作共赢

A. ①② B. ①④ C. ②③ D. ③④

三、非选择题 (本大题有 4 小题, 按序为 10 分、12 分、11 分、19 分, 共 52 分)

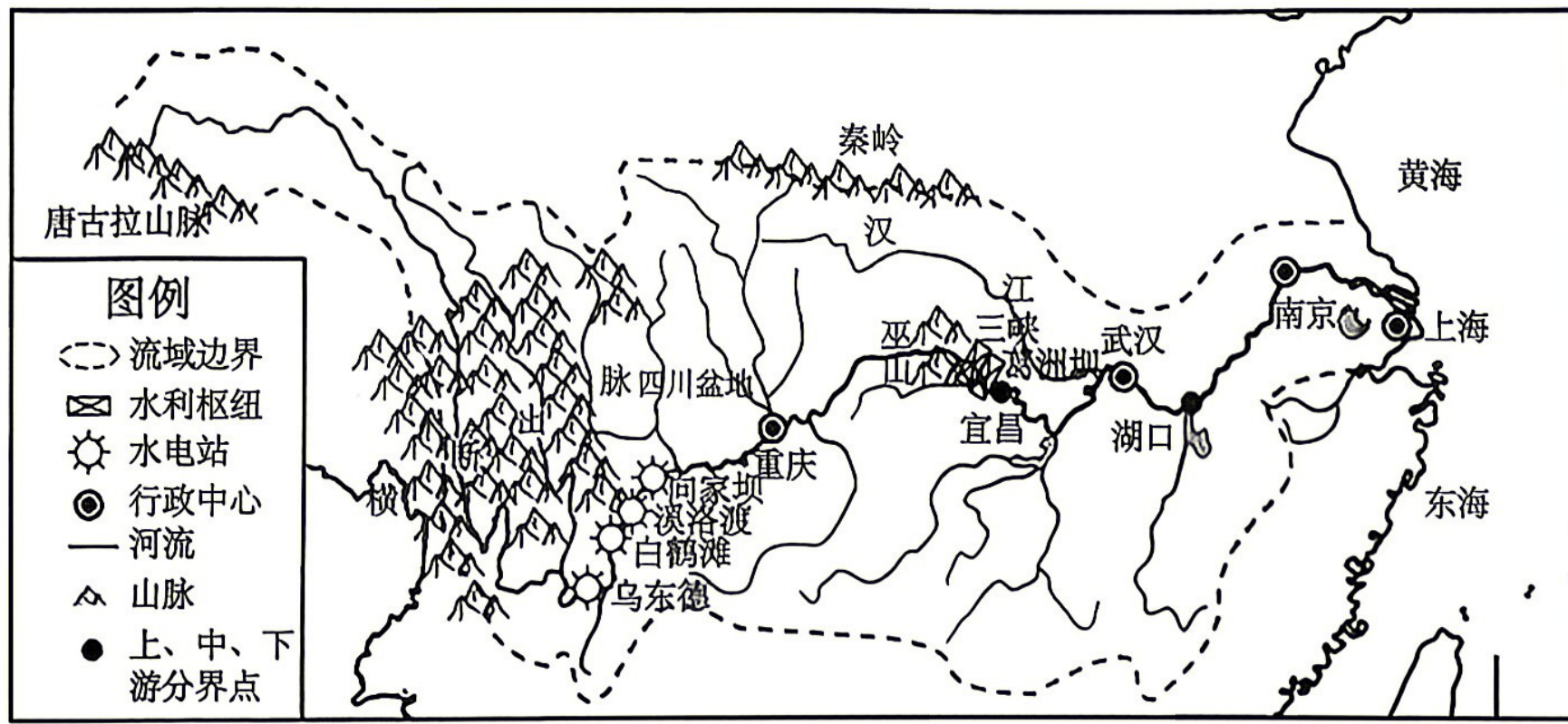
29. (10 分) 2026 年是长江经济带“共抓大保护、不搞大开发”提出十周年。阅读材料, 回答问题。

【晒·十年护江成效】材料一:

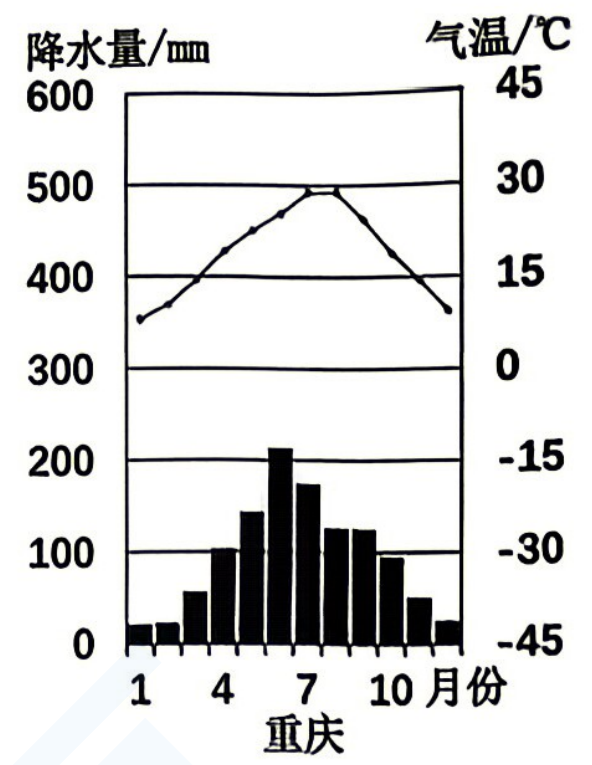
治理成效	具体内容
水质改善	长江干流水质连续 6 年稳定达到 II 类, 流域优良水质比例从 67% 提升至 96.5%
①	长江江豚种群数量增至 1426 头, 水土流失治理面积达 17.78 万平方公里, 岸线复绿超 1200 万平方米, 全面落实长江十年禁渔
②	清理整治非法码头 1361 座, 20 万余个入河排污口得到规范整治, 整治率超 90%
③	地区生产总值从 2016 年的 30.83 万亿元跃升至 2024 年的 63.02 万亿元, 占全国比重稳定在 46% 以上, 年均增速持续高于全国平均水平

(1) 仿照完成材料一中的空缺内容。(3 分)

【析·区位资源禀赋】材料二：图1 长江流域示意图 图2 重庆气候资料



第29题图1



第29题图2

材料三：由长江干流乌东德至葛洲坝的六座梯级水电站构成的世界最大清洁能源走廊2024年累计发电约2959.04亿千瓦时，相当于节约标准煤8924万吨，减排二氧化碳24亿吨。

(2) 长江既有世界最大的“清洁能源走廊”，又被誉为“黄金水道”。请你任选一个资源禀赋，从地形和气候角度加以说明。(4分)

【绘·发展新图景】

材料四：坚持共抓大保护、不搞大开发，坚持生态优先、绿色发展，持续推进长江经济带高质量发展……畅通长江黄金水道，加强岸线资源高水平保护和合理高效利用，推进沿江产业绿色转型升级，促进上中下游协同联动发展。
——摘自《十五五年规划纲要》

(3) 综合上述资料并结合所学，阐述我国为实现高质量发展在长江上、中、下游分别采取的举措。(3分)

30. (12分) 饮食承载着不同时代、不同文化的独特烙印。阅读材料，回答问题。

材料一：北宋时，北方人以粟、麦为主食，南方人以水稻为主食。南宋时，主食由唐代的粟、麦、稻格局变成了稻、麦、粟格局。元代的生活百科类书籍里，既记载了中原和江南的食物如馄饨、馒头等，也收录了女真挾不刺鸭子、高丽粟糕等特色美食，还收录了大量外来饮食，如西亚的阿刺吉酒(蒸馏酒的统称)传入中国。
——摘编自戴杏贞《元代中外饮食文化交流》等资料

(1) 材料一中宋元时期的饮食有哪些变化? 结合所学，分析产生上述变化的背景。(4分)

材料二：清代后期至民国年间，食辣习俗广泛存在于西南以及两湖等地的农村与口岸城市。湖南人把辣椒文化视为湖湘文化的重要元素，毛泽东诙谐地将辣椒与革命精神联系起来。1930年5月，毛泽东在江西寻乌社会调查期间曾幽默地评价“工农大众才是辣味十足的红辣椒”。

——摘编自曹雨《中国食辣史》等资料

(2) 根据材料二并结合所学，写出与“工农大众才是辣味十足的红辣椒”这一评价相关的史事。(2分)

材料三：15-20世纪欧洲饮食变化简表

类别	时间	主要变化
新饮食传入	15-16世纪	哥伦布从美洲带回玉米、甘薯，达·伽马带来多种香料
	17-18世纪	咖啡、茶叶等饮品传入
食品工业化	19世纪	用蒸汽机器生产面包，发明食物罐头
饮食全球化	20世纪	食品低温处理技术、冷链物流系统、货柜运输，超市等大型贩卖方式的发展，实现了全球食品流通

——据朱基富《新航路的开辟：欧洲饮食文化的新篇章》等资料制作

(3) 综合以上材料，结合所学，以“东西方饮食文化的变迁”为主题，自拟观点，加以简要阐述。(6分)

【要求：观点正确，史论结合，条理清楚】

31. (11分) 低空之下, 法治之上。某班同学制作宣传展板, 请你一起参与。

筑牢法治安全防线, 守护低空公共安全

【典例导思】

2026年1月, 嘉兴的褚某在未获飞行批准情况下, 三次操控非法破解的无人机在管制区域飞行, 扰乱正常的空中管理秩序, 对区域内的公共安全构成潜在威胁, 成为浙江首例因无人机“黑飞”被处罚的案件。

【漫画导悟】

【法律导航】 新修订的《中华人民共和国治安管理处罚法》第四十六条规定: 违反有关法律、法规关于飞行空域管理规定, 飞行民用无人驾驶航空器、航空运动器材, 危害公共安全的, 处五日以上十日以下拘留; 情节较轻的, 处警告或者五百元以下罚款。

- (1) 褚某的行为属于哪一违法行为? 请结合材料说明判断依据, 并简述新修订的《治安管理处罚法》在守护低空公共安全中发挥的作用。(5分)
- (2) 运用“自由与法治的关系”相关知识, 阐述漫画警示语“无人机不能任性飞”的合理性。(4分)
- (3) 综合上述材料, 谈谈青少年应如何提升自身法治意识, 守护公共安全。(2分)

32. (19分) 中国式现代化赋予中华文明以现代力量, 中华文明赋予中国式现代化以深厚底蕴。阅读材料, 回答问题。

【文脉赓续: 中华文明的创新基因】

中华文明具有突出的创新性, 中华民族不断创造属于自己的文明。

【物质文明】	【精神文明】	【政治文明】
<p>材料一: 毕昇于北宋庆历年间发明泥活字印刷术, 欧洲古腾堡于1440年代发明金属活字印刷术, 两者相距约四百年。若无中国印刷术的传入, 欧洲的文化普及与社会转型进程将大大延缓。</p> <p style="text-align: right;">——摘编自李约瑟《中国科学技术史》</p>	<p>材料二: 18世纪, 欧洲启蒙运动吸收了儒家思想中的“民本”“德治”理念, 伏尔泰等思想家将其作为批判欧洲封建专制的思想武器, 深刻影响了欧洲近代民主政治思想的形成与发展。</p> <p style="text-align: right;">——朱谦之《中国哲学对欧洲的影响》</p>	<p>材料三: 中华文明的制度创新, 始终围绕“大一统”的核心, 兼顾治理效能与社会公平, 从古代的郡县制、科举制, 到现代的人民代表大会制度, 彰显了“制度适配国情”的中国智慧。</p> <p style="text-align: right;">——摘编自钱穆《中国制度史纲要》</p>

- (1) 根据材料一、二, 分别阐释中国古代文明成就对欧洲发展的历史价值, 并用一句话总结这两则材料的共同主旨。(5分)
- (2) 根据材料三并结合所学知识, 说明制度如何适配国情。(4分)

新闻速递

- ◆ ①2025年，我国“天空地海一体化”生态环境智能监测体系在国家层面加速成型，生态环境监控效能显著提升。
- ◆ ②2026年央视春晚节目《贺花神》，以故宫文物为灵感，将传统花卉、诗词文化与XR等现代科技深度融合，以创新形式演绎中华优秀传统文化。
- ◆ ③2026年2月，中国与东盟在数字经济、人工智能领域等进行合作，助力全球创新治理体系更趋公正合理。

备注：中华优秀传统文化的部分重要元素：天下为公、天下大同的社会理想，天人合一、万物并育的生态理念。

(3) 结合新闻速递，运用所学知识，谈谈你对习总书记所说的“中国式现代化既传承历史文化、又融合现代文明，既造福中国人民、又促进世界共同发展”这句话的理解。(6分)

【青春力量：创建美好未来的使命担当】

(4) 综合上述材料，运用所学知识，从两个角度完成面向青少年的行动倡议。(4分)

新时代的青少年，肩负着续民族根脉，创美好未来的神圣使命。我们既是中华文明创新性的传承者，又是中国式现代化的建设者。因此，我们_____。