

2026 年初中学业水平模拟考试

道德与法治·历史与社会

考生注意：

1. 本试题卷分判断题、选择题和综合题三部分，共 8 页，满分 100 分，考试时间 100 分钟。全卷采用闭卷形式。
2. 答题前，请务必将自己的姓名、准考证号用黑色字迹的签字笔或钢笔填写在答题纸规定的位置上。
3. 答题时，请按照答题纸上“注意事项”的要求，在答题纸相应的位置上规范作答，在本试题卷上的作答一律无效。

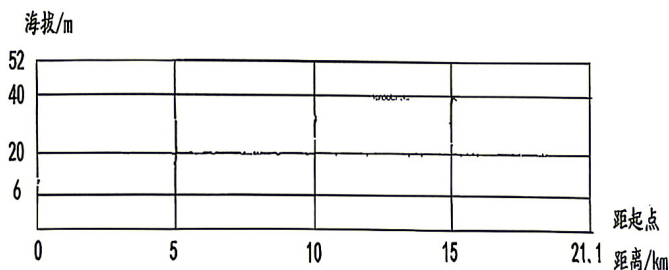
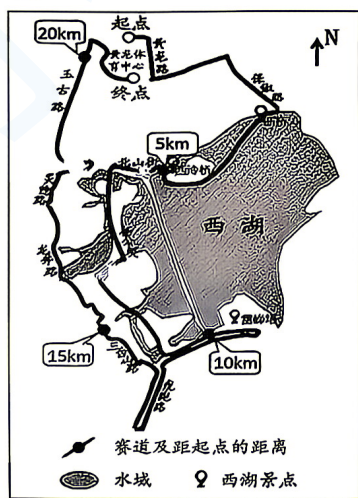
试 题 卷

一、判断题（本大题有 8 小题，每小题 1 分，共 8 分。判断下列说法是否正确，正确的请将答题纸相应题号后的 T 涂黑，错误的请将答题纸相应题号后的 F 涂黑）

1. 美国中部大平原地广人稀，适合农业机械化生产。（ ）
2. 青藏地区草场面积大，高寒气候条件下牧草植株高大、茎秆多、叶量大。（ ）
3. 公元前 60 年，西汉朝廷设置西域都护，标志着西域正式归属中央政权。（ ）
4. 1956 年，三大改造基本完成，实现了生产资料私有制向社会主义公有制的转变。（ ）
5. 罗斯福新政以加强对农业的计划指导为核心，使美国走出了困局，解决了社会的根本矛盾。（ ）
6. 当与朋友发生矛盾冲突时，为了不伤害友谊，我们应该主动退让，避免正面沟通。（ ）
7. 浙江省将慢性病、罕见病用药纳入医保，减轻群众负担，体现国家尊重和保障人权。（ ）
8. 中东局势持续动荡，中方坚决反对侵犯他国主权安全，主张通过对话谈判解决问题，共同维护世界和平稳定。（ ）

二、选择题（本大题有 20 小题，每小题 2 分，共 40 分。请选出各题中一个最符合题意的正确选项，不选、多选、错选均不给分）

2026 年 3 月 22 日西湖半程马拉松在浙江省黄龙体育中心正式鸣枪起跑。万名跑者用脚步丈量杭州的秀美风光与千年人文底蕴。阅读 2026 西湖半程马拉松赛道示意图和赛道地形剖面图，回答 9—10 题。



2026 西湖半程马拉松赛道示意图和赛道地形剖面图

三、综合题（本大题有 4 小题，按序为 10 分、11 分、11 分、20 分，共 52 分）

29.（10 分）从白酒到锂电，四川宜宾形成双轮驱动的产业格局。阅读材料，回答问题。

材料一 宜宾是万里长江第一城，酿酒历史逾千年，以五粮液为龙头，建成千亿级浓香白酒产业集群，是中国白酒之都与核心产区。

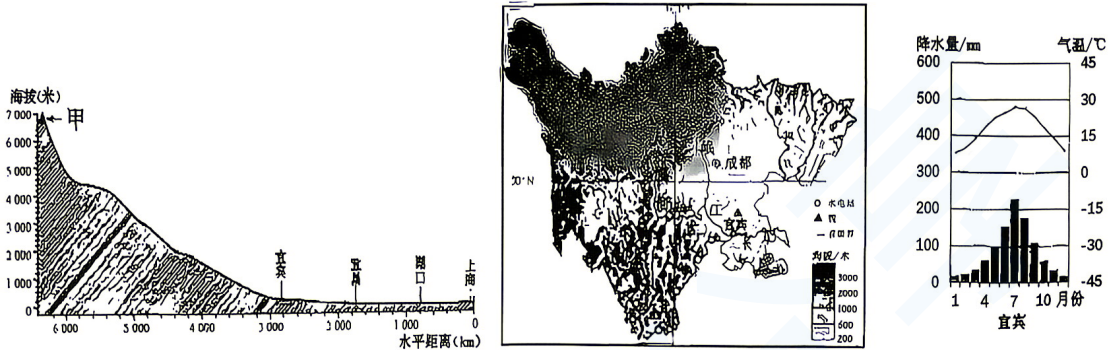


图 1 长江干流（部分）剖面图

图 2 四川地形图

图 3 宜宾气候图

材料二 2019 年宜宾与全球最大的锂电池生产商——宁德时代达成合作，仅用 180 天就完成从签约到开工的全过程，创造了宜宾速度。如今宜宾动力电池产量占全国 16% 以上，全球 10%，意味着全世界每 10 块动力电池就有 1 块产自宜宾。从千年酒都到动力电池之都，宜宾以新兴产业破局，走出了一条传统产业与绿色新能源产业协同发展的转型之路。

- (1) 长江从甲_____（山脉）发源，干流江阔水深，终年不冻，宜宾以下可以四季通航。而宜宾地处长江_____（上/中/下）游，水质优良，气候类型是_____，酿酒历史悠久，成为全国著名的优质白酒生产基地。（3 分）
- (2) 结合上述材料，简要分析宁德时代选择宜宾的原因。（3 分）
- (3) 请你谈谈宜宾的转型之路对区域可持续发展的积极意义。（4 分）


22. 2026年2月, 中央宣传部追授董亦军同志“时代楷模”称号。他从警36年, 坚守“人民公安为人民”宗旨, 扎根一线、履职尽责、心系群众, 用一生守护首都安全稳定。董亦军的事迹启示我们应()

- ①不断激发自己的潜能, 扬长避短 ②坚持集体利益, 实现人生价值
③勇于承担责任, 并服务奉献社会 ④激发正面情绪感受, 做情绪的主人

1. ①② B. ①③ C. ①④ D. ②③

23. 观察右图漫画《消费陷阱》。漫画给消费者的启示是()

- A. 抢票软件技术越先进越好, 应主动购买
B. 完全拒绝线上购票, 只选择线下窗口排队
C. 增强辨别能力, 不轻信虚假宣传和“神器”噱头
D. 联合其他消费者与商家协商, 要求免费赠票



2026年3月5日至12日, 第十四届全国人民代表大会第四次会议在北京顺利召开。据此完成24—25题。

24. 十四届全国人大四次会议审议了国务院政府工作报告、审查通过了“十五五”规划纲要草案等。这说明()

- ①全国人大行使了最高监督权和最高决定权
②人民代表大会制度是我国的基本政治制度
③我国政府对国家权力机关负责, 受其监督
④人大代表是国家机关, 直接行使国家权力

- A. ①② B. ①③ C. ②③ D. ②④

25. 十四届全国人大四次会议表决通过了《中华人民共和国生态环境法典》。该法典第一条明确规定: “为了保护生态环境, 防治污染和其他公害……, 根据宪法, 制定本法。”这一规定体现了()

- A. 宪法是生态环境法典的具体化与补充
B. 生态环境法典与宪法具有同等的法律效力
C. 宪法是生态环境法典的立法基础和立法依据
D. 生态环境法典在国家法律体系中的核心地位

26. 电影《惊蛰无声》讲述国安干警启动“惊蛰行动”, 与境外间谍较量, 捍卫国家核心利益与国家安全的故事。这一剧情启示我们()

- A. 捍卫国家利益, 坚持总体国家安全观 B. 弘扬爱国主义为核心的时代精神
C. 维护国家安全是每个公民的基本权利 D. 国家利益与个人的利益完全一致

27. 马年春晚节目《贺花神》以故宫“白玉月令组佩”为引, 融合传统花卉文化与现代科技, 让古老美好在当下焕发新生。这一节目创作成功的原因在于()

- ①坚持以传统文化为根基, 实现了对传统文化的全面继承
②挖掘传统文化的时代价值, 让文化遗产与时代发展相适应
③以文化创新为最终目的, 用现代科技完全替代传统形式
④运用现代科技手段, 推动传统文化的创造性转化与创新性发展

- A. ①② B. ①③ C. ②③ D. ②④

28. 作为浙江高质量发展建设共同富裕示范区的核心城市, 在中国共产党的领导下, 杭州人民实干争先、接续奋斗, 城乡融合更紧密, 民生福祉更厚实, 城乡居民收入倍差持续缩小, “人间天堂”绘就了共同富裕的幸福图景。杭州在共同富裕之路上实现精彩蝶变是因为()

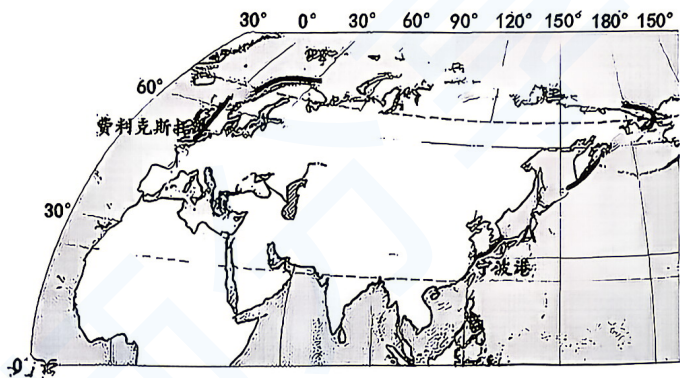
- ①始终坚持中国共产党的领导 ②进行了最深刻、最伟大的社会变革
③解决了发展不平衡不充分的问题 ④杭州人民勇于追梦、勤于圆梦

- A. ①③ B. ①④ C. ②③ D. ②④

9. 此赛道被誉为“国内最美赛道”，途径众多西湖美景。下列关于景点位置及赛道行进方向的描述，正确的是（ ）
- A. 赛道经过保俶路后向东南方向进入断桥 B. 赛道经过雷峰塔景点后大致向北折返
C. 赛道经过杨公堤时大致位于西湖的东侧 D. 赛道整体走向大致先向南，后折返向北
10. 马拉松比赛中，若赛道起伏大、有长陡坡，选手的体能消耗会较大。本次比赛中选手体能消耗最大的路段是（ ）
- A. 黄龙路-西泠桥 B. 北山街-雷峰塔 C. 雷峰塔-三台山路 D. 龙井路-玉古路

2025年9月23日，海杰航运“伊斯坦布尔桥”轮从宁波舟山港启航，于10月14日凌晨抵达英国费利克斯托港，标志着全球首条中欧北极集装箱快航航线成功首航。阅读航线示意图，回答11-12题。

11. 关于此次航行线路描述正确的是（ ）




- A. 穿过白令海峡
B. 全部位于东半球
C. 连接北美洲东部和欧洲西部
D. 经过印度洋、北冰洋、太平洋

12. 图中A国发展渔业的有利条件有（ ）

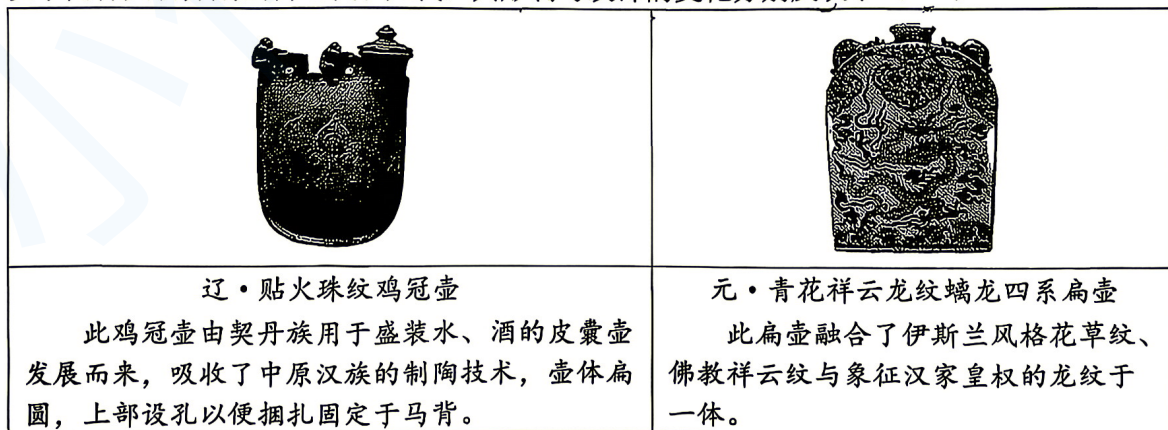
- ①渔业发展历史悠久
②海岸线曲折，多优良港湾
③造船业发达，渔船性能好
④地形以山地丘陵为主，多火山地震

- A. ①②③ B. ①②④ C. ①③④ D. ②③④

13. 《史记·商君列传》记载：“平斗桶、权衡、丈尺。”要直接证明这一历史记载，下列最可靠的实物史料是（ ）



14. 以下两件文物分别出自辽代和元代，其形制与纹饰的变化分别反映了（ ）



- ① 民族交融进一步加深 ② 中外文化交流发展
③ 经济重心已完成南移 ④ 制瓷工艺高度发达
- A. ①② B. ①③ C. ②④ D. ③④

30. (11分) 中华文明绵延数千年, 形成了独特而深厚的文明品格。某校九年级同学开展“探寻中华文明底色”主题活动, 收集了以下材料。阅读材料, 回答问题。

材料一: 中国古代文明成就简表

领域	代表性史实
文字与思想	汉字演变: 商代甲骨文 → 秦朝统一文字为 ① → 汉代隶书成熟 → 唐代楷书定型。 儒家思想: 孔子创立 → 汉代尊为正统, 为历代王朝所推崇。
制度与治理	秦朝推行郡县制; 隋唐创立科举制; 元朝设置行省制; 明清废丞相、设军机处。
技术与经济	战国修建都江堰; 北宋毕昇发明 ②, 宋元时期指南针应用于航海。
民族与对外交流	北魏孝文帝推行汉化改革; 唐代文成公主入藏、鉴真东渡、玄奘西行; 明代 ③ 下西洋。

材料二: 中华文明的五大突出特性

中华文明的五大突出特性

连续性: 唯一自古延续至今、未曾中断的文明。

创新性: 在继承创新中不断发展, 在应时处变中不断升华。

统一性: “大一统”理念贯穿中国历代政治格局与思想文化。

包容性: 开放包容、海纳百川, 在同其他文明交流互鉴中焕发新生。

和平性: 珍爱和平, 和平融入中华民族血脉与基因。

(1) 请将材料一中①②③处补充完整。并从“制度与治理”领域中任选一项史实, 简要说明其影响或意义。(5分)

(2) 综合材料一和材料二, 围绕“中华文明的特性”提炼一个观点, 并运用材料一中的两个及以上史实(除第1问中已选的史实外), 对该观点进行阐释。(6分)

【要求: 观点明确, 史论结合, 论证合理, 条理清晰。】

31. (11分) 2025年12月18日,海南自贸港全岛封关运作正式启动。某校九年级学生以“以法为帆,乘风开放”为主题开展探究学习。请你参与,完成相关任务。

【何为“封关”】

材料一:

“封关”并非封岛,而是将海南全岛建成海关监管特殊区域,实施“一线放开、二线管住、岛内自由”的自由化便利化政策。这是我国扩大高水平对外开放、推动建设开放型世界经济的标志性举措。

【何能“封关”】

材料二:

“封关”举措具备坚实的法治保障。《中华人民共和国海南自由贸易港法》于2021年6月10日经全国人大常委会表决通过并施行。在立法过程中全国人大常委会广泛开展公民征询座谈会,充分吸纳民众的意见建议,为海南自贸港的开放发展划定法治边界。

“封关”以来,海南省人民政府依据法律中“统筹反走私综合治理”的要求,统筹公安、海关、海警等力量,运用无人机、视频监控等技术,封堵非设关地走私漏洞;企业依法享受加工增值免关税政策红利;离岛旅客依法遵守额度、品类等规定,获得更大免税优惠。

【何以“用”关】

材料三 海南封关不仅是国家战略,也与杭州的你我他有关联。



封关后,杭州游客在海南离岛免税购物可享受更高额度。

两地在数字经济、旅游业等领域合作空间广阔。



杭州的跨境电商企业可利用海南自贸港“加工增值免关税”政策,降低进口商品成本。



- (1) 根据材料一,海南自贸港“封关”实践体现了我国坚持哪一项基本国策?结合材料,说明“封关”式开放彰显了中国怎样的大国担当?(3分)
- (2) 从厉行法治的角度,结合材料二,分析海南自贸港“封关”得以有效实施的原因。(4分)
- (3) 综合上述材料,结合所学知识,作为杭州的中学生,请你为家乡如何抓住海南封关的机遇实现更好发展提出两条具体建议。(4分)

32 (20分) 百年招商局, 跨越一个世纪, 与国家民族同呼吸、共命运, 是中国近代以来民族企业发展的生动缩影。阅读材料, 回答问题。

【溯源: 因势而生, 接轨世界】

材料一: 1872年, 李鸿章上奏清廷创办轮船招商局, 主张“庶使我内江外海之利, 不致为洋人占尽”。轮船招商局是中国第一家近代民用航运企业。其创办之时, 世界航运正发生巨大变革: 1807年美国富尔顿制成蒸汽轮船, 近代交通运输实现革新; 远洋航运日益成为连接世界的重要方式, 全球贸易不断发展, 西方各国纷纷抢占航运先机, 争夺世界市场与殖民霸权。

——摘编自《招商局史》

(1) 根据材料一, 归纳轮船招商局创办时的世界背景。(4分)

【奋进: 与国同行, 百年浮沉】

材料二: 招商局百年发展关键时间节点轴。

时间	发展事件
1872年	轮船招商局在上海成立, 首航船“伊敦号”开启中国近代航运业。
1949年	招商局轮船“海辽号”在香港宣布起义, 驶回大陆, 成为新中国第一艘回归的海轮。
1956年	招商局完成公私合营, 成为国营企业, 旗下“民享号”投身国内沿海运输与物资调配。
1979年	招商局在深圳创办蛇口工业区, 喊出“时间就是金钱, 效率就是生命”的口号。
2013年至今	招商局旗下“明远号”等船舶扬帆“一带一路”, 在全球50多个国家和地区布局集装箱等业务, 打造国际航运物流体系。

(2) 结合材料二, 分析招商局的发展历程体现了中国近代以来哪些重大的时代发展变化。(6分)

【图强: 创新赋能, 勇立潮头】

材料三: 招商局新时代发展部分数据(2013-2025):

- ◆参与“一带一路”沿线港口建设运营18个, 带动沿线国家物流贸易额年均增长12%;
- ◆累计研发投入超300亿元, 突破智能航运、绿色港口等核心技术56项, 新能源船舶占比达40%;
- ◆全年缴纳税收超800亿元, 累计公益捐赠超50亿元, 助力乡村振兴、海洋生态保护等项目200余个;
- ◆旗下企业解决就业岗位超100万个, 带动上下游产业就业超500万个。

(3) 结合材料三, 运用《道德与法治》知识, 说明招商局的发展实践体现了哪些道理?(6分)

【致远: 守正传承, 勇担使命】

材料四: 招商局董事长在企业百年庆典上表示: “招商局的百年, 是与国家同呼吸、共命运的百年。企业的发展, 从来离不开国家的稳定与繁荣; 国家的强盛, 也需要千千万万民族企业的奋勇争先。新时代的招商局, 将始终坚守‘实业报国’的初心, 以创新为帆, 以担当为桨, 在民族复兴的征程中继续奋楫前行。”

(4) 综合上述材料, 招商局的百年征程对青少年践行爱国情怀、助力民族复兴有哪些启示?(4分)

2026 年初中学业水平模拟考试

道德与法治·历史与社会参考答案及评分参考

一、判断题（本大题有 8 小题，每小题 1 分，共 8 分。正确的请涂 T，错误的请涂 F）

题号	1	2	3	4	5	6	7	8
答案	T	F	T	T	F	F	T	T

二、选择题（本大题有 20 小题，每小题 2 分，共 40 分）

题号	9	10	11	12	13	14	15	16	17	18
答案	D	C	A	A	C	A	C	D	A	C
题号	19	20	21	22	23	24	25	26	27	28
答案	A	B	C	D	C	B	C	A	D	B

三、非选择题（本大题有 4 小题，共 52 分）

29. (10 分)

- (1) 唐古拉山；上游；亚热带季风气候。（3 分）
- (2) 宜宾地处河流交汇处，是长江重要港口，交通便利；河流落差大，水能资源丰富，电力充足廉价，为工厂生产提供强大的能源保障；附近锂矿资源丰富；宜宾政府大力扶持新能源产业。（答到任意 3 点即可，共 3 分）
- (3) 可持续发展包括生态可持续发展、经济可持续发展和社会可持续发展。宜宾的转型之路能优化产业结构，增强经济的稳定性；增加就业，提高当地人民的生活水平；推动绿色能源发展，保护当地生态环境。（答出 2 点即可，每点 2 分，共 4 分）

30. (11 分)

- (1) ①小篆；②活字印刷术；③郑和（3 分）

影响分析（从“制度与治理”中任选一例，2 分）：

示例：

秦朝的郡县制：打破分封割据，奠定中央集权基础，开创了此后我国历代王朝地方行政的基本模式；隋唐创立的科举制，是古代选官制度的一大变革，扩大了官员选拔大范围，促进了社会阶层的流动，推动了教育的发展。成为历朝选拔官员的主要制度。

元朝创立的行省制度，有效管理辽阔疆域。此制为明清所沿用，巩固了国家统一，奠定了后世地方行政区划的基础，加强了中央集权，在历史上影响深远。

明清废丞相、设军机处：强化皇权，使君主专制进一步强化。

- (2) (6 分) 示例答案（从材料一选取史实）

示例一：阐释“连续性”

观点：中华文明具有突出的连续性，在关键领域一脉相承，从未断绝。

论证：在文字方面，我国有文字可靠的历史从商朝的甲骨文开始，汉字由此（我国已发现的古代文字中年代最早、体系较为完整的文字）发展而来。秦朝统一后，把小篆作为全国规范文字。再经汉隶至唐楷定型，其表意内核与体系历经三千年演变而稳定传承，成为文明连续最直接的标志。

在制度方面，秦朝创立了大一统的中央集权制度，为后世历代王朝所沿用；在地方推行郡县制，开创了此后我国历代王朝地方行政的基本模式，为后世长期沿用；元朝创立的行省制度，有效管理辽阔疆域。此制为明清所沿用，巩固了国家统一，奠定了后世地方行政区划的基础，加强了中央集权；明清废丞相、设军机处，强化皇权，使君主专制进一步强化，都体现了政治制度的连续性。

综上所述，文字与制度作为文明的核心载体与基本政治框架，其跨越数千年的稳定传承与渐进发展，从根本上保障了中华文明的历史脉络延绵不绝、薪火相传。

示例二：阐释“创新性”

观点：中华文明在技术、制度等领域的创新推动社会进步。

论证：在技术层面，北宋毕昇发明活字印刷术，是对唐代雕版印刷的重大革新，活字印刷术对人类文明的发展产生了重大影响，后陆续传播到世界各地，大大促进了文化的传播。

在制度层面，隋朝创立科举制。它打破了按门第选官的旧规，创立了以考试成绩为依据的相对公平的选拔方式，是一项伟大的政治创新，深刻影响了后世的人才选拔与社会结构。

综上所述，从活字印刷到科举取士，中华文明的创新不仅体现在改造自然的科技发明上，也体现在治理社会的制度设计上。这些创新成果被广泛应用并传承，持续为文明发展注入活力。

示例三：以“统一性与包容性”为例：

观点：中华文明在追求政治统一的同时，始终保持对多元文化的包容，形成“多元一体”的特质。

论证：①统一性：秦朝推行郡县制，打破分封割据，奠定中央集权基础；元朝设行省制，加强对辽阔疆域的管辖，体现了“大一统”的制度创新。②包容性：北魏孝文帝推行汉化改革，主动学习汉族文化，促进民族交融；唐代玄奘西行取经、鉴真东渡，既吸收佛教文化，又向外传播中华文明，展现了开放包容的胸襟。

综上所述，统一与包容相辅相成，使中华文明在融合中不断发展，形成强大凝聚力。

【评分建议：观点明确（1分）；能结合材料一选取两个及以上相关史实，每个史实能准确、逻辑清晰地阐释所选特质（2分/史实，共4分），论证逻辑混乱或史实与特质无关则酌情扣分；综上所述结论描述1分。】

31. (11分)

(1) ①体现了我国坚持对外开放的基本国策。（1分）

② 彰显了中国坚持互利共赢，坚定不移扩大高水平对外开放的决心（或“推动建设开放型世界经济”）；体现了负责任大国的形象，主动为全球贸易投资自由化便利化提供中国方案。（答出其中一点即可，其它言之有理酌情给分，共2分）

(2) 坚持厉行法治，推进科学立法、严格执法、公正司法、全民守法；

①科学立法：全国人大常委会通过《海南自由贸易港法》，并广泛征求公民意见，为封关运行提供了明确的法律依据；

②严格执法：海南省政府统筹公安、海关等多部门，运用无人机、视频监控等技术手段严厉打击走私，确保法律落地；

③全民守法：企业依法享受加工增值免关税政策红利，离岛旅客依法遵守免税购物规定，全社会法治意识增强。

④公正司法：（材料未直接体现，不赋分；若学生答出“司法机关公正审理相关案件保障法治”，可酌情给分）（任答两点即可，每点2分，共4分）

(3) ①个人行动角度：主动学习海南自贸港政策，向亲友、同学宣传开放红利，提升家乡人民对高水平对外开放的认识。

②消费与守法角度：前往海南旅游购物时，依法遵守免税购物额度、品类等规定，做守法公民，同时将海南的优质商品和服务经验带回杭州，促进家乡消费升级。

③学习与创新角度：关注海南在数字经济、跨境电商等领域的创新制度，结合杭州在数字经济方面的优势，为家乡企业利用海南政策降低成本、拓展市场提出“金点子”。

④社会参与角度：通过写信、网络留言等方式，建议杭州政府与海南自贸港加强在旅游、电商、人才交流等方面的合作，实现两地互利共赢。

（任答两点即可，共4分，其他答案言之有理，酌情给分）

32. (20分)

- (1) ①第一次工业革命开展，蒸汽轮船出现，近代航运技术革新；②新航路开辟以来，全球贸易不断发展，西方列强争夺世界市场与殖民霸权。(2分)
- (2) ①近代探索(1872年)：体现了洋务运动时期“自强求富”的探索，中国开始学习西方技术，兴办近代民用工业。
- ②新中国成立(1949年、1956年)：体现了新民主主义革命的胜利和社会主义改造的完成，民族企业回归人民怀抱，实现公有制转型。
- ③改革开放(1979年)：体现了中国开启改革开放的伟大征程，蛇口工业区成为经济特区的“试验田”，喊出时代强音。
- ④新时代(2013年至今)：体现了中国推动共建“一带一路”、构建人类命运共同体的开放战略，企业积极“走出去”，参与全球竞争。
- (答出任意3点即可，每点2分，共6分，其他答案言之有理酌情给分。)
- (3) ①招商局参与“一带一路”建设，体现了我国坚持改革开放、高水平对外开放，奉行互利共赢的开放战略。
- ②招商局重视研发、突破核心技术，体现了我国坚持创新驱动发展战略，创新是引领发展的第一动力。
- ③招商局发展绿色航运、保护生态，体现了我国坚持绿色发展理念，推动生态文明建设。
- ④招商局助力就业、公益与乡村振兴，体现了我国坚持以人民为中心的发展思想，发展的根本目的是增进民生福祉。(或体现了共享发展理念)
- (任答3点即可，共6分，其他答案言之有理酌情给分。)
- (4) ①树立家国情怀：将个人成长与国家命运紧密相连，像招商局那样“与国家同呼吸、共命运”。
- ②勇于创新实践：在学习和生活中培养创新意识，敢于探索，勇于担当时代责任。(1分)
- ③坚持脚踏实地：从点滴做起，学好本领，为将来服务社会、建设祖国打下坚实基础。(1分)
- ④增强社会责任感：积极参与公益活动，关注国家发展和社会进步；
- ⑤传承奋斗精神：学习招商局百折不挠、勇立潮头的精神，面对困难不退缩，积极投身民族复兴伟业。
- (任答2点即可，共4分，其他答案言之有理酌情给分)