

鄞州区 2022 学年第一学期七年级期末考试

历史与社会 道德与法试题

考生须知：

1. 全卷分试题卷 I、试题卷 II 和答题卷。试题卷共 6 页，有两个大题，30 个小题。满分为 100 分，考试时间为 90 分钟。
2. 请将姓名、准考证号填写在答题卷的规定位置上。
3. 答题时，把试题卷 I 的答案在答题卷 I 对应的选项位置用 2B 铅笔涂黑、涂满。将试题卷 II 答案用黑色字迹钢笔或签字笔书写，答案必须按照题号顺序在答题卷 II 各题目规定区域内作答，做在试题卷上或超出答题区域书写的答案无效。

试题卷 I

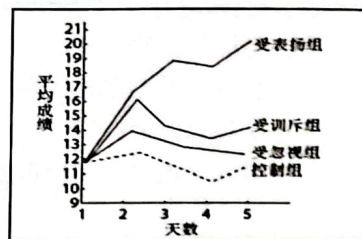
一、选择题（本大题有 25 小题，每小题 2 分，共 50 分，请选出各题中一个符合题意的正确选项，不选、多选、错选均不给分）

1. 鄞州区正在举办经典诵读大赛，小州为了获得佳绩，每天对着镜子反复练习，及时纠正。小州认识自己的途径是
A. 自我观察 B. 他人评价 C. 集体舆论 D. 名师点评
2. 小雨所在的班级正在评选“学习标兵”，以下是四位候选学生的自我介绍，你认为能够入选“学习标兵”的是
①小强：我会利用课余时间广泛阅读课外必读书籍，并撰写读书笔记
②小明：为了提高成绩，我会照搬“学霸”的学习方法，努力狂刷题
③小丽：我会践行“学思并用”的辩证思想，遇到不懂勤问“为什么”
④小梅：深知自身不足，我积极参与小组合作探究，在讨论中获新知
A. ①②③ B. ①②④ C. ①③④ D. ②③④


3. “一枝一叶总关情”，留心“微行为”做好“微点评”，下面对行为的点评正确的是

	微行为	微点评
①	通过社团活动结交朋友	拓展、丰富交往内容
②	对父母的忠告总是无动于衷	能正确理解父母的爱
③	同学们都说我胆小内向	他人评价肯定都正确
④	拒绝网友的见面邀请	我们要慎重结交网友

- A. ①② B. ①④ C. ②③ D. ②④
4. 拖着病体忘我工作，持续 12 年家访超过 1600 户，行程 11 万余公里。张桂梅老师，她扎根贫困地区 40 余年，创办全国第一所全免费女子高中，帮助 1800 多名贫困山区女孩圆梦大学。面对老师的这种大爱，作为学生，我们应该
A. 热爱老师，对老师百依百顺 B. 尊敬老师，感恩老师
C. 自觉履行孝敬老师的法定义务 D. 接纳每个老师的不同
 5. 右图是一份教学实验结果，它提醒教师要正确运用表扬和批评手段，也警示学生
A. 要想尽办法去博取老师喜欢
B. 平时要对所有老师言听计从
C. 要正确对待老师的批评和表扬
D. 对老师们的批评应该充耳不闻



6. 三胎政策出台后，小宁和小波的父母给家里再添新成员，他们很理解、尊重父母的决定，不仅帮父母分担家务，照顾妹妹，还表示自从有了妹妹，家里更温暖更幸福了。这说明
- 小宁和小波的家庭中新增加了收养关系
 - 我们为人子女，就该时时事事听从父母的安排
 - 小宁和小波的家庭由核心家庭变成了主干家庭
 - 小宁和小波懂得尊敬、倾听、感恩双亲长辈
7. 电影《美丽人生》描述了在惨无人道的集中营中，男主人公用善意的谎言，把集中营的残酷化解为孩子眼中的快乐游戏，让孩子感受美好的故事。男主人公之所以这样做，是因为
- 游戏可以提高安全防范能力
 - 精神生活需要物质支持
 - 守住心灵，让孩子感知世界的真、善、美
 - 精神世界完全受外部环境的制约
8. 下列对右边漫画《向雨伞学习做人》的理解正确的是
- 做更好的自己只能在为他人带来福祉的过程中实现的
 - 做更好的自己要让自己成为无所不能的超级大英雄
 - 当朋友做出伤害友谊的举动时，我们一定要选择宽容
 - 呵护友谊，在朋友需要的时候用行动表达关心和支持

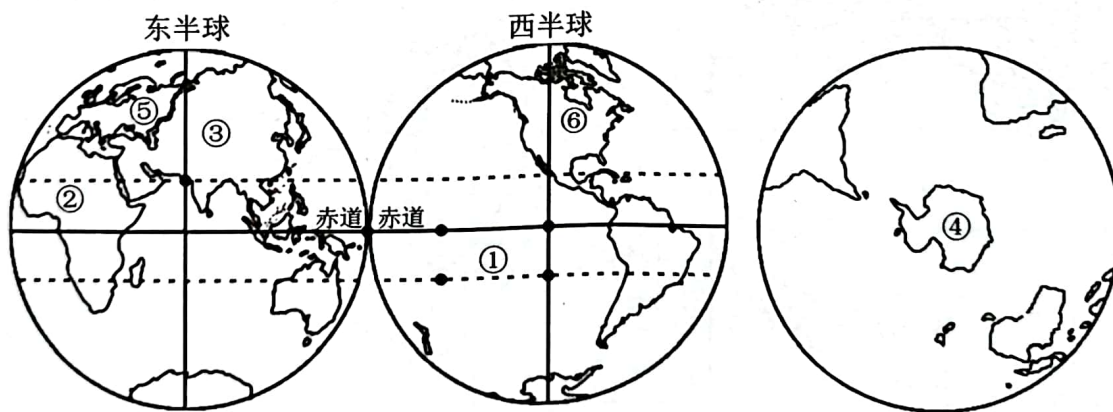


第19届亚运会将于2023年9月在我国杭州举行。据此回答第9、10小题。

9. 小华想从地图上查找杭州的位置，他应选择
- 杭州市地图
 - 中国政区图
 - 中国地形图
 - 杭州旅游图
10. 杭州毗邻中国的经济中心上海，是我国重要的旅游城市，这与它的气候是分不开的，这种气候是
- 温带大陆性气候
 - 热带雨林气候
 - 亚热带季风气候
 - 高原山地气候

地图是地理学习的“第二语言”，在地理学习中具有不可替代的地位。读下图，完成第

11、12小题。



11. 根据图中信息，下列说法正确的是
- 大洋①是世界上最大的洋——大西洋
 - 中国位于世界上最大的大洲③的西部
 - 大洲②是非洲，④是南美洲，⑤是欧洲
 - 大洲③、⑤主要是以山脉、河流、湖泊、海峡等为分界线
12. 大洲③和大洲⑥的分界是
- 白令海峡
 - 马六甲海峡
 - 巴拿马海峡
 - 霍尔木兹海峡



13. 2022年11月14日，中美两国元首于印度尼西亚举行会晤，世界上最重要的双边关系间的这场互动吸引了全球目光。下列关于中国和美国的说法，正确的是

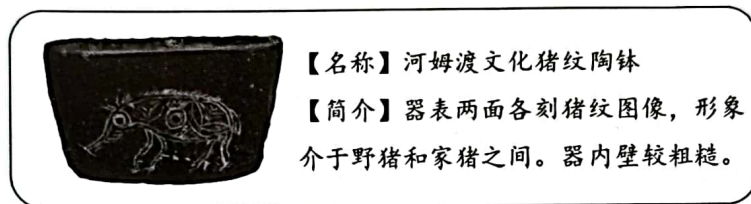
- A. 都濒临太平洋
B. 都是发达国家
C. 都没有热带
D. 都以黄种人为主

14. 水是生命之源，每年的3月22日是“世界水日”，我国将每年的3月22日至28日确定为“中国水周”。下列关于水域及其作用，表述正确的是

①	海洋	为人类提供广阔的空间资源
②	河流	为人类提供生产生活用水
③	湖泊	具有航运、灌溉和旅游等作用
④	海峡	是人为建造的海上交通要道

- A. ①②③
B. ①②④
C. ①③④
D. ②③④

15. 某校举办“百件文物讲述浙江故事”图片展。下图为“河姆渡文化猪纹陶钵”文物介绍，据此推测



- ①该文物出土于黄河中游地区
②河姆渡居民已开始了家畜饲养
③该文物是旧石器时代的器物
④河姆渡居民已经能够烧制陶器
- A. ①②
B. ①③
C. ②④
D. ③④

16. 张荫麟在《中国史纲》中说：“严格地说，封建的社会的要素是这样：在一个王室的属下，有宝塔式的几级封君，每一个封君，虽然对于上级称臣，事实上是一个区域的世袭的统治者。”中国古代与张荫麟所说的“封建的社会”相适应的制度是

- A. 禅让制
B. 分封制
C. 郡县制
D. 刺史制

17. 近代学者梁启超在《中国六大政治家》中，将商鞅列为中国历史上最伟大的政治家之一。商鞅变法内容中，最能触动旧贵族利益的是

- A. 推行县制
B. 奖励军功
C. 奖励生产
D. 承认土地私有

18. 《道德经》中说：“有无相生，难易相成，长短相形，高下相盈”。这说明老子

- A. 崇尚“自然”，主张“无为”
B. 主张爱一切人，视人如己
C. 反对空谈仁义，强调以法治国
D. 认为一切事物都有对立面

19. 历史图片的解读是学习历史的重要能力，下列图片突出反映的历史现象是



胡人汉服图



汉人胡食图

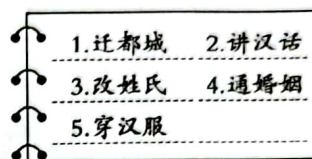
- A. 北方统一
B. 民族融合
C. 中外交流
D. 文化昌盛

20. 2018年新设立的国家 and 地方各级监察委员会，为我国反腐败斗争打造了一支利剑。秦始皇为监察官员而设立的官职是

- A. 丞相
B. 御史大夫
C. 太尉
D. 刑部



21. 历史学家钱穆指出，古代中国能够推持大一统局面数千年之久而不败，主要得益于创建了一整套优良的政治制度。这里“优良的政治制度”指的是
- A. 分封制
B. 郡县制
C. 行省制
D. 中央集权制
22. 近几十年来，在我国新疆地区的考古发掘中，发现了许多来自古代中原地区的丝织品。新疆地区使用中原丝织品，最早可能是在
- A. 秦朝
B. 汉朝
C. 唐朝
D. 宋朝
23. 三国鼎立局面形成后，各国统治者都重视发展生产，其中蜀国在丞相诸葛亮的治理下取得的突出成就是
- A. 改进提水工具翻车
B. 发展海外贸易
C. 丝织业兴旺
D. 造船业发达
24. 改革是历史发展的推动力，我国古代不乏成果斐然的改革运动，右图所列内容反映的历史事件是
- A. 管仲改革
B. 汉武帝改革
C. 北魏孝文帝改革
D. 商鞅变法
25. 中国传统的医学博大精深、源远流长，不管是过去还是现在，在悬壶济世、治病救人等方面发挥了显著的作用。下列有关我国古代医学家及其成就搭配合理的是
- A. 李时珍发明“麻沸散”
B. 华佗编写《本草纲目》
C. 孙思邈创编“五禽戏”
D. 张仲景写成《伤寒杂病论》



试题卷 II

二、非选择题（本大题有 5 小题，每小题 10 分，共 50 分）

26. (10 分) 航天员作为飞天之路的攀登者，是当之无愧的英雄。今天让我们走近“八一勋章”获得者、英雄航天员聂海胜。阅读材料，回答问题。

【放牛娃“冲上云霄”】聂海胜的父亲在其初二时病逝，原本贫困的家庭雪上加霜。在学校、老师的帮助鼓励下，面临辍学的聂海胜得以顺利完成初中学业，为将来“冲上云霄”打下基础。



【你尽忠，我尽孝】在神舟六号航天员选拔的关键阶段，母亲突发疾病，聂海胜因无法为母亲床前尽孝心急如焚。聂新胜对哥哥说：“哥，你放心，家里有我在。你尽忠，我尽孝！”




【挑战自我极限】为了从飞行员成为航天员，他努力啃下 40 多万字的飞船飞行操作手册，没有在夜里 12 点之前睡过觉；练跳伞，他 8 天完成了一个月的训练任务。

【英雄语录促成长】“如果你把自己的理想与祖国的需要联系起来，你就会感到有一股强大的力量一直在身后推动着自己。”“不能让成绩和荣誉停止自己的步伐，更不能因年龄的增长而放松了标准、放弃了追求。”

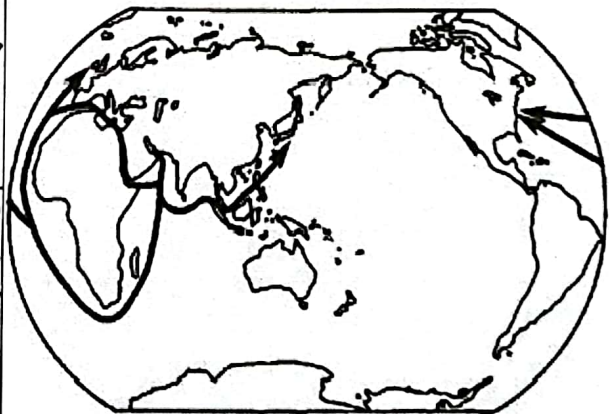
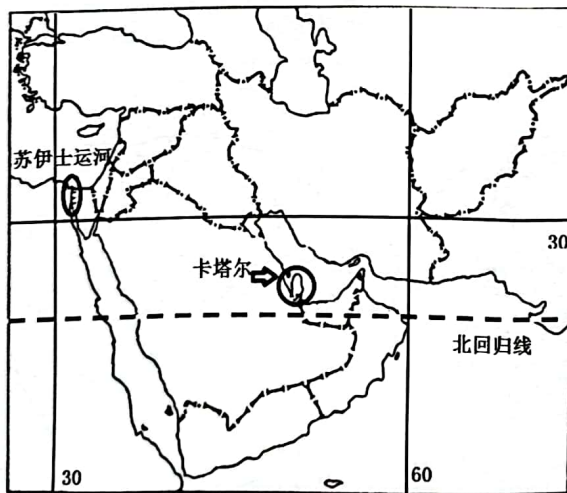
- (1) 初中阶段顺利完成学业，为聂海胜“冲上云霄”打下基础。据此，请你说说中学时代的重要性。(2 分)
- (2) 聂海胜“挑战自我极限”，只为做更好的自己，从中你找到了哪些方法？(3 分)
- (3) “你尽忠、我尽孝”，我们看到在中国的家庭文化中，什么是重要的精神内涵？(1 分) 结合自身经历，说说你能为弘扬该精神内涵做些什么？(2 分)
- (4) 英雄语录促成长，请你根据材料，写出 2 点启示。(2 分)



27. (10分) 2022年的光阴, 我们一起走过、一起经历, 现在让我们一起分享这些带给我们生命思考的片段。阅读材料, 回答问题。

<p>【绝地求生】</p> 	<p>9月5日, 泸定突发6.8级地震, 为了下游群众的生命安全, 甘宇和工友一起开闸泄洪、直至排除险情, 但自己却错过了逃生的最佳时间。被困在大山之中的甘宇, 失联17天, 绝地求生; 没吃的, 他就吃野果, 挖树根; 没喝的, 他就喝苔藓水; 快要绝望的时候, 他就和身边的草木说话。</p>	<p>(1) 从甘宇的事迹中, 你能找到生命的哪些特质? (2分)</p> <p>(2) 请从敬畏生命角度评析甘宇的行为。(3分)</p>
<p>【摩托大军】</p> 	<p>8月21日, 重庆突发山火, 一个又一个摩托车骑手顶着40摄氏度的高温, 颠簸在崎岖的山林小路, 不顾自身安危, 第一时间参与灭火。这些骑手有的是专业路试员, 有的是摩托车爱好者, 有的是外卖员。被大部分人视为英雄的他们, 却反复强调, 自己干的事情不值一提, 真正的英雄不是他们。</p>	<p>(3) 同学们, 你们认为摩托大军是英雄吗? 请结合“平凡与伟大”的知识, 说一说你的观点。(3分)</p>
<p>【防疫优化】</p> 	<p>12月7日, 国务院联防联控机制发布关于进一步优化落实新冠肺炎疫情防控措施的通知。根据该通知, “具备居家隔离条件的无症状感染者和轻型病例一般采取居家隔离, 也可自愿选择集中隔离收治”。</p>	<p>(4) 抗疫三年, 现在我们渐次放开。请从守护生命的角度, 谈谈如何做好自己健康的第一责任人? (2分)</p>

28. (10分) 2022年卡塔尔世界杯是第二十二届世界杯足球赛, 是历史上首次在卡塔尔和西亚国家境内举行, 也是首次在北半球冬季举行。阅读西亚地图和波斯湾石油路线图, 完成问题。

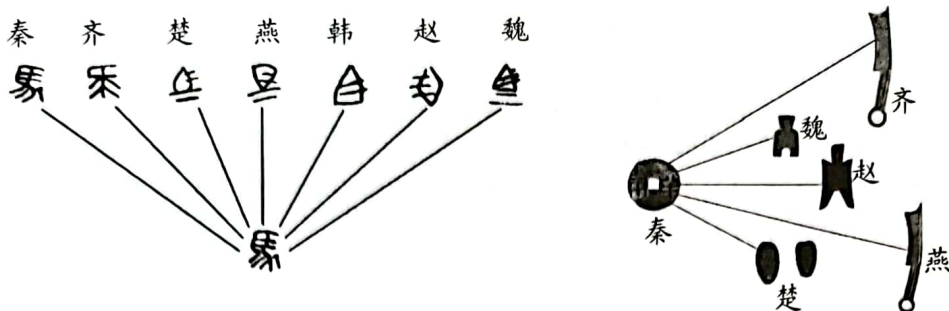


- (1) 卡塔尔位于苏伊士运河的____方向, (1分) 你的判断依据是什么? (1分)
- (2) 从纬度带上看, 卡塔尔位于____, (1分) 从热量带上看, 卡塔尔位于____。(1分)
- (3) 当地居民主要以____人种为主, (1分) 当地的官方语言为____。(1分)
- (4) 卡塔尔拥有丰富的石油天然气, 一艘从卡塔尔出发的油轮要到达中国上海, 根据波斯湾石油运输路线图, 依次写出会经过的大洋。(2分)
- (5) 分析卡塔尔世界杯在冬季举行的原因。(2分)



29. (10分) 毛泽东有词云：“惜秦皇汉武，略输文采。”秦始皇、汉武帝均为我国历史上影响巨大的封建帝王。阅读材料，回答问题。

材料一：



材料二：周王室的亲戚一旦取得了他们的土地，立刻互相疏远和进行战争，而天子则无力阻止他们。……秦始皇把全国分成 36 郡，每个郡又分成数目不等的县。所有这些（郡县）官员都由中央任命，并接受固定的俸禄，他们的职位不是世袭的，随时可以罢免。……此后，这个制度成了后世王朝的典范。

——《剑桥中国秦汉史》

材料三：汉初，在实行秦朝制度的同时，分封了一些王国。诸侯王权力很大，在封地内可以任免官吏，收取租税，铸造钱币，还拥有兵权。

——《中国通史》

- (1) 材料一中秦统一后的文字字体和货币造型分别是什么？（2分）
- (2) 材料一、材料二中的各项措施对后世产生了深远影响。请结合材料和所学知识，分别予以说明。（3分）
- (3) 材料三反映了汉初诸侯王对皇权的威胁，汉武帝为消除这一威胁采取了什么措施？为解决财政问题，他在经济方面有何举措？（3分）
- (4) “秦皇汉武”被人相提并论，你认为他们共同的伟大政治功绩是什么？（2分）

30. (10分) 五谷者，万民之命，国之重宝。二十大报告中，习总书记指出要加快建设农业强国。阅读材料，回答问题。

材料一：“冉耕字伯牛”；“司马耕字子牛。”
——司马迁《史记·仲尼弟子传》

材料二：“时海内大乱……中国士民避乱者多南渡江。”——司马光《资治通鉴》卷八十七《晋纪九》

材料三：正是由于在历代王朝末期，封建统治者对农民的横征暴敛、加速土地兼并等缘由，农民逐渐失去了赖以生存的根基，逐步走上了反抗道路……新王朝建立伊始，较为有意识地汲取前王朝灭亡的教训，适当地照顾到社会底层民众的利益诉求……提倡轻徭薄赋，王朝逐渐进入兴盛时期。——余丽、王高阳《春秋战国时期粮食安全思想的传承与当代战略选择》

- (1) 材料一人名中蕴含了丰富的时代信息，据此你可以推论春秋时期农业生产领域出现了什么新现象？（1分）这一现象引发了急剧的社会变革，由此导致了当时思想领域怎样的局面？（1分）
- (2) 材料二反映了西晋末年怎样的历史现象？（1分）该现象对我国以后的经济格局产生了怎样的影响？（1分）
- (3) 材料三中，作者认为中国古代封建王朝兴盛与灭亡的原因分别是什么？请各用一则史实加以例证。（4分）
- (4) 综合上述材料，分析影响中国古代农业经济发展的主要因素。（2分）

