

2023—2024 学年第一学期期末考试试卷

八年级历史与社会·道德与法治

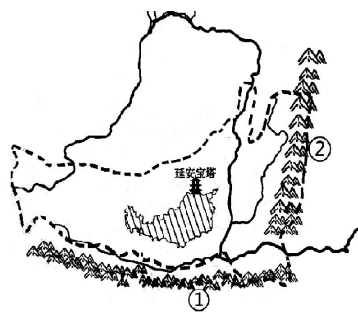
考生须知:

1. 本学科考试为开卷考试,全卷满分 100 分,考试时间 100 分钟。
2. 全卷分为试卷I、试卷II和答题卷。试卷共 6 页,有两大题,25 小题。
3. 答案必须写在答题纸相应的位置上,写在试卷、草稿纸上均无效。
4. 答题前,认真阅读答题纸上的“注意事项”,按规定答题。

卷I (选择题 共 40 分)

一、选择题(本题有 20 小题,每小题 2 分,共 40 分。各题中只有一个正确答案,请选出最符合题意的正确选项,不选、多选、错选均不给分)

1. 下列诗句所描写的景观最有可能出现在珠江三角洲地区的是
A. 罗浮山下四时春,卢桔杨梅次第新
B. 人间四月芳菲尽,山寺桃花始盛开
C. 北风卷地白草折,胡天八月即飞雪
D. 土打窑洞丈二宽,夏天凉来冬天暖
2. 查干湖冬捕奇观已被列入吉林省省级非物质文化遗产名录。这一奇观形成的主要因素是
A. 该省濒临东海
B. 该省的行政中心是长春
C. 该省属于温带季风气候
D. 该省地处内蒙古高原
3. 凌汛是指由于下段河道结冰或冰凌积成的水坝阻塞河道,使河道不畅而引起河水上漲的现象。以下最有可能发生凌汛现象的河流是
A. 黄河
B. 长江
C. 钱塘江
D. 澜沧江
4. 关于右图两座山脉,下列说法正确的是
A. ①处山脉大致与 400 毫米等降水量线重合
B. ②处山脉是秦岭
C. ①处山脉是温带季风气候和亚热带季风气候的分界线
D. ②处山脉是西北—东南走向
5. 洋务运动创办近代军事和民用企业,开始了中国近代化的历程。有人说它是“有心栽花花不开,无心插柳柳成荫。”这里的“花”是指
A. 扶清灭洋
B. 自强求富
C. 民主共和
D. 君主立宪
6. 某同学找到一段史料:“到七月二十日,童福祥的军队连同几万拳匪,拿着他们的引魂幡、混天大旗、雷火扇、阴阳瓶、九连环、如意钩、火牌、飞剑及其他法宝,仅杀了一个德国公使,连东交民巷的使馆都攻不破。同时八国联军由大沽口进攻,占天津,慢慢的逼近北平。于是西太后同光绪帝逃到西安。李鸿章又出来收拾时局。”该史料主要表明
A. 维新变法遭到顽固派反对
B. 资产阶级革命派发起运动
C. 义和团带有一定迷信色彩
D. 太平天国运动具有局限性



7. 下列关于右图所描述的事件,说法正确的有
 ①该事件的导火线是巴黎和会的外交失败
 ②“停止内战,一致对外”是该事件的口号
 ③是一场反帝反封建的伟大爱国革命运动
 ④这场运动促进了全国抗日救亡运动新高潮的到来



- A. ①② B. ①③
 C. ②③ D. ②④

8. “在中国近代文化史上,白话文运动毋宁是成功的。……若没有白话为中文的主要载体,全民识字教育未必能够顺利开展。这一大事,胡先生及其同侪功不可没!”由此可见

- A. 白话文运动指的是五四运动
 B. 新文化运动提倡民主与科学
 C. 胡适主张白话文促进了国民教育
 D. 新文化运动动摇了封建礼教的统治地位

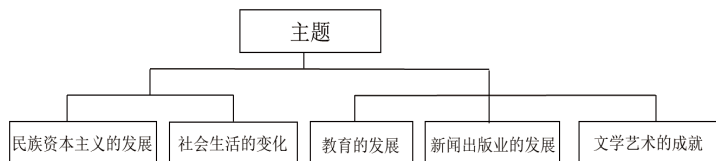
9. 弘扬红色精神,赓续红色血脉,下列诗句描述的历史事件,按其时间先后排列正确的是

- ①中山风雨起苍黄,百万雄师过大江 ②娄山关前鏖战急,遵义城头赤帜竖
 ③西安捉蒋翻危局,内战吟成抗日诗 ④红军荟萃井冈山,主力形成在此间

- A. ②③④① B. ②③①④ C. ④③②① D. ④②③①

10. 思维导图有利于从整体上把握知识体系。下面思维导图的主题最恰当的是

- A. 近代政治生活缩影
 B. 近代经济社会发展
 C. 教育文化事业进步
 D. 历史文化遗迹寻踪



11. “无规矩不成方圆,有敬畏才知行止。”这句名言告诉我们

- A. 规则不是一成不变的 B. 公民要积极改进规则
 C. 规则限制了人身自由 D. 规则需要他律和自律

12. “敬人者,人恒敬之。”下列选项与这一观点最相符合的是

- A. 人而无礼,焉以为德 B. 君子一言,驷马难追
 C. 己所不欲,勿施于人 D. 尺有所短,寸有所长

13. 某初中8名学生利用假期时间开展调查,提出两项关于解决“老社区停车难问题”的建议,经政协提案建议,最终被政府采纳。这充分展现了中学生

- ①自觉养成亲社会行为 ②勇于承担社会责任
 ③积极参与社会实践 ④坚持国家利益至上

- A. ①②③ B. ①②④ C. ①③④ D. ②③④

14. 90后青年越剧演员陈丽君早年从花旦转型到小生,为短时间内适应新的角色,经常在下班后练习,对表演技巧和演技的反复磨练,直到深夜。2023年陈丽君凭越剧《新龙门客栈》贾廷一角爆火出圈。这启示我们

- ①刻苦努力,必能成功 ②树立理想,艰苦奋斗
 ③行己有耻,止于至善 ④敬业爱岗,成就事业

- A. ①② B. ①③ C. ②③ D. ②④

卷II（综合题 共 60 分）

二、综合题（本题有 6 小题，共 60 分）

21. (10 分) 长江经济带横跨中国东中西三大区域，是我国重点实施的“三大战略”之一。

材料一

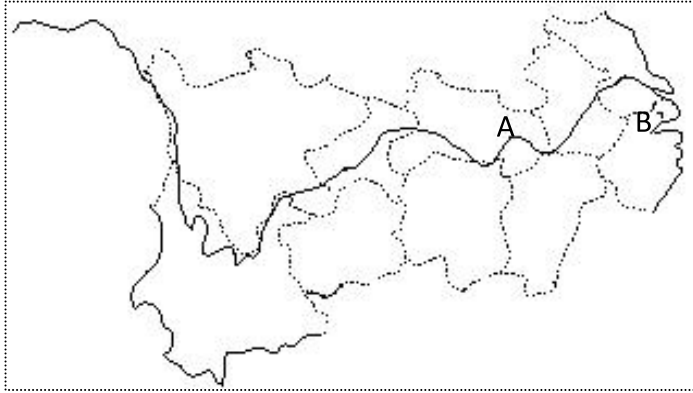


图 1 长江经济带示意图

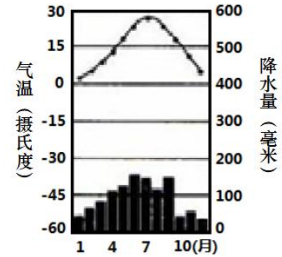


图 2 B 地景观及气温与降水

(1) 根据图 1，指出 A 地作为重要港口的有利条件。结合图 1 和图 2，分析 B 地成为“鱼米之乡”的自然原因。(6 分)

材料二 12 月 7 日，2023 浙江农业博览会在杭州国际博览中心开幕。浙江对口帮扶的四川 12 个市（州）“天府乡村”优质农产品参展浙江农博会，既是浙川东西部产业协作丰硕成果的集中展示，也是四川优质生态农产品资源走出大山的一次良机，还是丰富浙江城市市民“菜篮子”“米袋子”“果盘子”、增加四川脱贫群众收入的共赢之举。

(2) 材料二中浙江与四川两地的做法对促进不同区域共同发展有何借鉴。(4 分)

22. (14 分) 某小组开展“诗词里的历史”研学，收集到下列资料，请你参与完成任务。


<p style="text-align: center;">《寰海后十首》节选</p> <p style="text-align: center;">曾闻兵革话承平，几见承平话战争？ 鹤尽羽书风尽檄，儿谈海国婢谈兵。</p> <p style="text-align: right;">——魏源（1842）</p>	<p style="text-align: center;">《布尔什维克主义的胜利》节选</p> <p style="text-align: center;">人道的警钟响了！自由的曙光现了！ 试看将来的环球，必是赤旗的世界！</p> <p style="text-align: right;">——李大钊（1918）</p>
--	--

(1) 魏源和李大钊的诗词分别反映出当时中国怎样的现状？(4 分)

<p style="text-align: center;">《西江月·秋收起义》</p> <p style="text-align: center;">军叫工农革命，旗号镰刀斧头。 匡庐一带不停留，要向潇湘直进。 地主重重压迫，农民个个同仇。 秋收时节暮云愁，霹雳一声暴动。</p> <p style="text-align: right;">——毛泽东（1927）</p>	<p style="text-align: center;">《西江月·井冈山》</p> <p style="text-align: center;">山下旌旗在望，山头鼓角相闻。 敌军围困万千重，我自岿然不动。 早已森严壁垒，更加众志成城。 黄洋界上炮声隆，报道敌军宵遁。</p> <p style="text-align: right;">——毛泽东（1928）</p>
--	---

(2) 结合毛泽东的两首诗词，简述中国革命作出了哪些新探索。(4 分)

《七律·人民解放军占领南京》
 钟山风雨起苍黄，百万雄师过大江。
 虎踞龙盘今胜昔，天翻地覆慨而慷。
 宜将剩勇追穷寇，不可沽名学霸王。
 天若有情天亦老，人间正道是沧桑。
 ——毛泽东（1949）



人民解放军解放南京

(3) 综合该小组收集的研学资料，提炼一个关于中国近代史的主题，并分析说明理由。（6分，要求：主题明确，分析有效、角度全面、逻辑清晰）

23. (12分) 史料能够帮助我们认识、解释和重建历史真实。阅读资料，回答问题。

资料一 有些官兵愤怒而沉痛地说：

“东北军应到白山黑水之间，与日本拼个你死我活，怎能在周秦汉唐的故地与红军自相残杀？”“与其和共产党打仗被打死，还不如同日寇拼命！”

——《张学良身边的共产党人暨西安事变记事》

资料二 平型关战斗胜利后，蒋介石致电八路军参谋处表示祝贺：贵路军一战攻克平型关，毙敌遍野，俘虏甚多。忠勇之气，益寒敌胆。特电驰贺，续候捷音。

——《平型关战役文献资料汇编》

资料三

中华人民共和国国歌

(义勇军进行曲)

1935年作
 田汉词
 聂耳曲

$1 = G \frac{2}{4}$
 进行曲速度

($\underline{1} \cdot \underline{3} \underline{55} | 6 \ 5 | \underline{3} \cdot \underline{1} \underline{555} | 3 \ 1 | \underline{555} \underline{555} | 1 \cdot \underline{05} |$
 起

$\underline{1} \cdot \underline{1} | \underline{1} \cdot \underline{1} \underline{5} \underline{6} \underline{7} | 1 \ 1 | \underline{03} \underline{1} \underline{2} \underline{3} | 5 \ 5 | \underline{3} \cdot \underline{3} \underline{1} \underline{3} |$
 来！不愿做奴隶的人们！把我们的血肉，筑成我们

$\underline{5} \cdot \underline{3} \underline{2} | 2 \cdot \overset{\vee}{6} \overset{\vee}{5} | 2 \ \overset{\vee}{3} | \overset{\vee}{5} \overset{\vee}{3} \underline{05} | \underline{3} \underline{2} \underline{3} \underline{1} | \underline{3} \underline{0} |$
 新的长城！中华民族到了最危险的时候，

$\underline{5} \cdot \underline{6} \underline{11} | \underline{3} \cdot \underline{3} \underline{55} | \underline{222} \underline{6} | 2 \cdot \overset{\vee}{5} | 1 \cdot \underline{1} | \underline{3} \cdot \underline{3} | 5 - |$
 每个人被迫着发出最后的吼声，起来！起来！起来！

$\underline{1} \cdot \underline{3} \underline{55} | 6 \ 5 | \underline{3} \cdot \underline{1} \underline{555} | \underline{30} \underline{10} | \underline{5} \ \overset{\vee}{1} |$
 我们万众一心，冒着敌人的炮火，前进！

$\underline{3} \cdot \underline{1} \underline{555} | \underline{30} \underline{10} | \underline{5} \ \overset{\vee}{1} | \underline{5} \ \overset{\vee}{1} | \underline{5} \ \overset{\vee}{1} | \underline{1} \ 0 ||$
 冒着敌人的炮火，前进！前进！前进！进！

(1) 联系 20 世纪 30 年代重大史实，从国家安全的角度，说明中华民族到了“最危险的时候”。(6分)

(2) 结合上述三则资料，归纳中国取得抗日战争胜利的主要原因。(6分)

24. (10分) 法律与道德, 健康成长的保护伞。阅读材料, 回答问题。

	<p>案件回顾 2022年10月起, 陈某在无烟草许可证情况下, 通过在网络上贩卖“奶茶杯”等伪劣电子烟获利。检察官在审查中发现, 被查获的卡通造型电子烟, 看起来包装精美, 具有很强的迷惑性, 青少年很难抵得住诱惑, 而向陈某购买的顾客群众也多为15-24岁的年轻人, 不乏一些在校的初高中生。</p> <p>2023年10月, 绍兴嵊州市人民法院以非法经营罪判处被告人陈某有期徒刑八个月, 并处罚金人民币二万五千元。</p>
<p>法律链接 《中华人民共和国刑法》第二百二十五条规定 未经许可经营法律、行政法规规定的专营、专卖物品或者其他限制买卖的物品的……扰乱市场秩序, 情节严重的, 处五年以下有期徒刑或者拘役, 并处或者单处违法所得一倍以上五倍以下罚金。</p>	

- (1) 结合法律链接和案件回顾, 从法律和道德角度评析陈某的行为。(6分)
- (2) 面对陈某类似行为, 我们青少年应如何加强自我防范。(4分)

25. (14分) “榜样·梦想无限”, 某校以此为主题制作下列宣传栏。阅读材料, 回答问题。

<p>最美下乡青年</p> <p>庄园, 诸暨人, 90后青年党员, 绍兴市人大代表, 7年躬身三农, 5年投身公益。几年来她和她的团队走遍上英村等400多个村落, 带领1000多名青年投身网络营销, 直播带货900多场次, 为一大批农户解决滞销农副产品共计6000多万元; 领衔开发了37个公益投创项目, 帮300多户农村残疾人就业, 帮助2500名农村留守妇女就业, 实现人均增加纯收入1.2万元。2023年11月, 获评全国乡村振兴青年先锋标兵。</p>	<p>最美知播</p> <p>欧阳自远, 88岁, 中国月球探测工程首席科学家, 中国科学院院士; 汪品先, 86岁, 同济大学教授, 海洋地质学家, 中国科学院院士; 王广杰, 82岁, 退休电工教师; 吴於人, 73岁, 同济大学退休物理教授; 戴建业, 67岁, 华中师范大学文学院教授……天文、物理、文学、美学, 没有墙壁的教室, 不设门槛的大学……这群爷爷奶奶在网课直播间里, 欢脱幽默地传授硬核知识, 将毕生所学通过网络授以青年, 用日复一日的耐心播下知识的种子。</p>	<p>向榜样学习倡议书</p> <p>亲爱的同学们:</p> <p>少年有梦, 有梦就有希望, 努力就会有改变。少年有梦, 不应止于心动, 更要付诸行动。从现在开始, 我想写一份梦想计划向榜样学习:</p> <p>对比最美下乡青年和最美知播, 我发现我还存在不足:</p> <p>_____</p> <p>为此, 我决定从现在开始这样改进: _____</p> <p>将来, 我希望能成为一个合格的时代新人, 为祖国的复兴贡献出一份自己的力量。</p> <p>倡议人 XX X月X日</p>
---	---	--

- (1) “最美下乡青年”庄园的事迹中, 我们可以汲取哪些榜样力量?(6分)
- (2) “最美知播”的做法, 启示我们应怎样利用网络传播正能量?(4分)
- (3) 结合自身实际, 完成《向榜样学习倡议书》中划线处内容。(4分)