

# 2025 学年第二学期期末教学质量调研

## 七年级道德与法治·历史·地理

考生注意：

1. 本试题卷分判断题、选择题和综合题三部分，共 8 页，满分 100 分，考试时间 100 分钟。全卷采用闭卷形式。
2. 答题前，请务必将自己的姓名、准考证号用黑色字迹的签字笔或钢笔填写在答题纸规定的位置上。
3. 答题时，请按照答题纸上“注意事项”的要求，在答题纸相应的位置上规范作答，在本试题卷上的作答一律无效。

### 试题卷

一、判断题（本大题有 8 小题，每小题 1 分，共 8 分。判断下列说法是否正确，正确的请将答题纸相应题号后的 T 涂黑，错误的请将答题纸相应题号后的 F 涂黑）

1. 受地形影响，亚洲的大河多发源于西部山地、高原，自西向东流向海洋。
2. 澳大利亚独占一个大陆，有“骑在羊背上的国家”和“坐在矿车上的国家”之称。
3. 隋朝大运河的开凿，贯通南北、巩固统一，体现了中国古代劳动人民的智慧。
4. 设置伊犁将军、确立金瓶掣签制度是清朝加强对西藏有效管辖的重要措施。
5. “由义为荣，背义为辱”，体现了天下兴亡、匹夫有责的担当意识。
6. 网球比赛结束后，选手主动与对手握手致意，这是尊重他人的具体表现。
7. “民惟邦本，本固邦宁”这一古训，彰显了中华优秀传统文化中的民本思想。
8. 民法典规定了人们从事民事活动的基本原则。

二、选择题（本大题有 20 小题，每小题 2 分，共 40 分。每小题列出的四个备选项中只有一个是符合题目要求的，不选、多选、错选均不给分）

藏红花（番红花）原产伊朗，被誉为“红色黄金”。生长习性：喜冷凉、光照充足的环境，耐旱、怕涝，球根积水易腐烂；昼夜温差大利于有效营养物质积累；适宜在排水良好的山地、高原坡地生长。伊朗是全球最大的藏红花产地，产量占全球 80%~90%。阅读伊朗地形图，回答 9-10 题。



C. 南极地区矿产资源丰富，而北极地区资源贫乏

D. 南极地区距离我国更近，航行和补给更便利

13. 近年来，我国科考队发现极地地区的海冰覆盖面积在持续缩小。这可能带来的影响有（ ）

①海平面上升                      ②破坏动物生存环境                      ③增加淡水储量                      ④缓解全球气候变暖

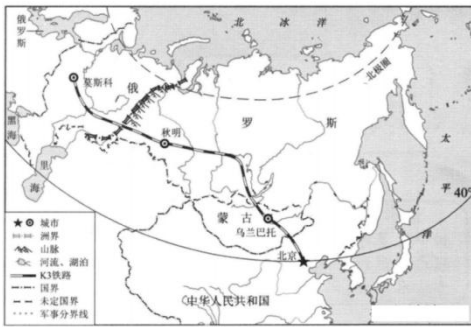
A. ①②

B. ①③

C. ②④

D. ③④

下图为从北京开往莫斯科的 K3 次国际列车路线分布示意图，该列车是中国运行里程最长的国际旅客列车。据此完成 14-15 题。



14. K3 次列车运行途中，车厢供暖时间远长于我国国内普通列车，其主要影响因素是（ ）

A. 沿线降水多，潮湿阴冷

B. 沿途纬度高，冬季寒冷漫长

C. 沿途海拔高，空气稀薄

D. 沿途多沙漠，昼夜温差较大

15. 列车行驶在俄罗斯境内时，乘客能观察到的景象或现象，符合事实的是（ ）

A. 铁路沿线分布着大面积的亚寒带针叶林

B. 列车从秋明到莫斯科途中，要经过喜马拉雅山脉

C. 列车一路向东行驶，最终抵达莫斯科

D. 部分行驶路段位于低纬度地区，气候炎热

16. 绘画是特定时代的历史映像。下列图片可佐证唐朝民族政策开明的是（ ）



A. 《步辇图》



B. 《送子天王图》



C. 彩绘仕女弈棋图



D. 莫高窟壁画中的曲辕犁

《宋史》中记载：“诏以文臣知州事……三年一易。州置通判，凡兵民、钱谷、狱讼之事，公文须知州、通判联署乃行。”又记载“诸州财赋，除留度支经费外，悉辇送京师，地方不得擅留钱粮。”根据材

料，完成第 17-18 题。

17. 《宋史》属于研究历史的（ ）

- A. 实物史料                      B. 文献史料                      C. 口述史料                      D. 图像史料

18. 宋朝统治者采取上述措施的共同作用是（ ）

- A. 开发边疆地区                      B. 加强思想控制                      C. 分割宰相权力                      D. 巩固中央集权

19. “吾尝在湖北，见农夫用秧马行泥中，极便。顷来江西，作《秧马歌》以教人……”。北宋文学家苏轼的这段描写反映宋朝（ ）

- A. 经济重心完成南移                      B. 引进并推广占城稻  
C. 农业生产技术进步                      D. 出现新的出行方式

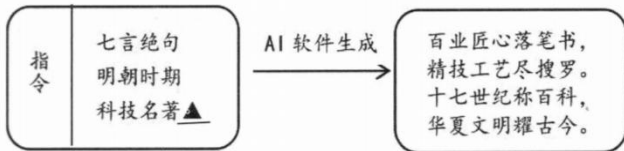
20. 某历史公众号准备推送一篇有关“游历元代”的文章，下列内容可以出现在这篇文章中的是（ ）

- A. 市民登上明长城眺望边塞风光                      B. 文人雅士观赏京剧曲目表演  
C. 农民在农田耕种玉米、甘薯                      D. 士兵在战争中使用火铳等火器

21. 中国古代涌现出众多反抗外来侵略的英雄人物与经典战事，七年级同学举办“保卫疆土、抵御外侮”的主题演讲。下列事件适合作为演讲内容的是（ ）

- ①戚继光抗倭                      ②李自成起义                      ③郑成功收复台湾                      ④雅克萨之战  
A. ①②③                      B. ①②④                      C. ①③④                      D. ②③④

22. 某位同学运用 AI 软件创作诗歌，生成以下内容，据此判断指令中的科技名著 ▲ 应是（ ）



- A. 《农政全书》                      B. 《本草纲目》                      C. 《天工开物》                      D. 《徐霞客游记》

23. 同学们围绕“青春时光”分享自己成长的经历和感悟。下列点评恰当的是（ ）

选项	内容	点评
①	小吴：进入青春期后，我们像春雨后的树苗，生长迅速，生机勃勃。	青春期的生理变化让我们感受到旺盛的生命力。
②	小丽：我总想表现自己，又害怕被嘲笑，经常感到孤独和焦虑。	青春期的矛盾心理无法调节，只能顺其自然。
③	小峰：在社区志愿服务中，我耐心地教老人手机操作步骤，女生们安抚老人情绪。	男生女生拥有各自性别优势，应相互取长补短。
④	小萱：有人传我和某位男生的“绯闻”，我觉得丢脸，	与异性交往要把握好尺度，尽量避免与异

	再也不敢和男生说话了。
	性接触。

- A. ①②                      B. ①③                      C. ②④                      D. ③④

24. “放青松”绿植、“好运兰”花卉等情绪治愈小摆件深受人们喜爱。研究显示，合理为情绪体验付费（如购买此类小摆件），能有效舒缓压力、调整心态。这启示青少年在情绪调节中应（     ）

- A. 依赖物质消费，全面丰富情绪体验                      B. 回避现实问题，掩盖情绪产生根源  
C. 借助积极暗示，彻底消除负面情绪                      D. 巧妙转移注意，主动调整心态情绪

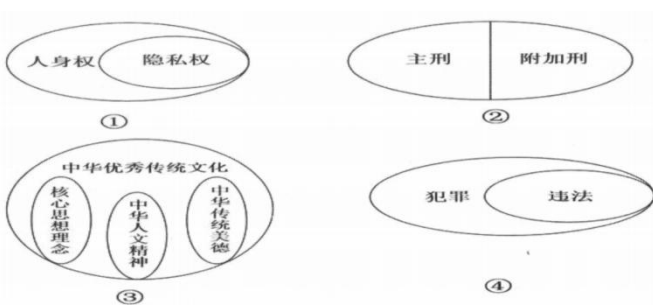
25. 2026 年，张雪机车在世界超级摩托车锦标赛中夺冠，打破欧美日品牌长期技术垄断。创始人张雪初中毕业，从修车学徒起步，历经 20 年拼搏，终让中国机车冲上世界之巅。他说：“有梦想，就去追。”张雪的故事启示我们，做自信的人需要（     ）

- A. 依赖家境，利用资源，降低奋斗难度                      B. 依靠他人，获得认可，增强自我信心  
C. 找准定位，扬长避短，发挥自身优势                      D. 追求卓越，回避失败，维持良好心态

26. 2026 年央视春晚以“马”为主题，通过舞蹈《追影》对汉代铜奔马进行“活化”演绎，同时融入非遗巴尔虎长调的《奔腾的海骝马》唱出了对远方的渴望与信念的坚守。有观众评论说：“既见其形，更感其神。”从中华人文精神的角度看，这些节目成功的关键在于（     ）

- A. 坚持了俭约自守、中和泰和的生活理念                      B. 践行了文以载道、以文化人的教化思想  
C. 运用了求同存异、和而不同的处世方法                      D. 实现了形神兼备、情景交融的美学追求

27. 图示法是表示概念之间关系的常用方法。下列图示正确的是（     ）



- A. ①②③                      B. ①②④                      C. ①③④                      D. ②③④

28. 观察下图漫画，针对漫画中青少年的行为，我们应劝说他（     ）



- A. 尊重知识产权，自觉抵制盗版行为                      B. 尊重智力成果，主动申请专利保护  
C. 增强法律意识，杜绝刑事违法行为                      D. 践行传统美德，鼓励分享盗版资源

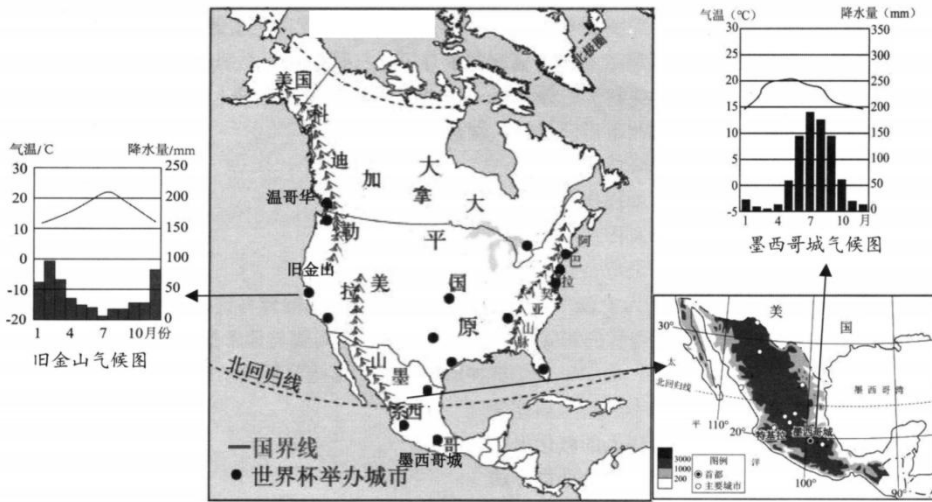
### 三、综合题（本大题有 4 小题，按序为 14 分、14 分、13 分、11 分，共 52 分）

29.（14 分）第 23 届世界杯足球赛将于 2026 年由美国、加拿大、墨西哥三国联合承办，赛事分布在三国 16 座城市。阅读材料，完成问题。

**材料一：**本届世界杯正式完成球队扩军，参赛队伍从往届的 32 支增至 48 支，赛事总场次从 64 场增至 104 场；赛事全程沿用 16 座现有球场，无需新建场馆。

相较于日韩世界杯，本次承办三国陆地相连、交通通达度高。据行业测算，本届世界杯可拉动区域直接 GDP 增长超 50 亿美元，带动全产业链发展，创造数十万就业岗位，全球关联经济总产值突破 800 亿美元。

**材料二：**世界杯足球赛举办城市分布图、墨西哥城市分布图及旧金山、墨西哥城气候图。



- (1) 本届世界杯足球赛举办国均位于\_\_\_\_\_（大洲名称），该大洲东、西两岸分别濒临\_\_\_\_\_和\_\_\_\_\_（大洋），整体地势大致特征为\_\_\_\_\_。（5 分）
- (2) 室外足球赛事的理想舒适气温为 15-25°C。本次赛事举办城市旧金山属于\_\_\_\_\_（气候类型），气候宜人、适宜办赛；加拿大举办城市温哥华的气候主要受\_\_\_\_\_（因素）影响；墨西哥城虽位于\_\_\_\_\_（五带），但同样满足室外办赛气温要求，请结合气候相关知识分析其原因。（5 分）
- (3) 结合图文材料，简要分析 2026 年世界杯采用美、加、墨三国联合举办的突出优势。（4 分）

30.（14 分）制度与外交折射古代中国的历史变迁。阅读材料，回答问题。

#### 【政治印记 制度变革】

史料	探究内容
近炀帝始置进士之科，当时犹试策而已。 ——《旧唐书·杨绾传》	隋朝开创_____①_____。（填写制度名称）
“中统、至元间，始分立行中书省，因事设官，官不必备，	元朝在地方创设_____②_____。（填写制度名称）

皆以省官出领其事。  ——《元史·百官志》	
(军机大臣)只供传述缮撰,而不能稍有赞画于其间也。  ——赵翼《檐曝杂记》	清朝雍正皇帝设置③作为最重要的中枢机构。

(1) 根据材料, 结合所学知识, 将表格中探究部分①②③处的内容补充完整。(3分)

### 【山河印迹 中外往来】



图一



图二《郑和航海图》(局部)

#### 资料卡

不惧往来, 是唐朝盛世对外交流的基本特征, 表现在: 允许外国人留学中国并可进入仕途; 进口珍珠、宝石、香料、药品; 引进先进科技文化艺术, 如天竺的甘蔗制糖法等; 佛教达到兴盛, 伊斯兰教传入我国。

广州十三行行商是清政府特许商人, 取得对外贸易的专利权, 同时清王朝对来华贸易的外商进行了种种限制。

——摘编自卢颐《唐清两朝盛世对外政策比较》

(2) 写出图一所反映的历史事件。根据资料卡, 概括唐朝对外交流包括哪些领域? 对比材料, 结合所学知识, 简要分析唐朝和清朝在对外政策方面的显著差异。(5分)

### 【史论综述 趋势探究】

(3) 综合上述材料及所学知识, 请从“君主专制中央集权制度的发展趋势”和“中国古代对外交往的演变趋势”两个主题中任选一个, 自拟观点, 并进行阐述。(6分)


(要求: 观点明确、史论结合、史实准确、表述完整、逻辑清晰)

31. (13分) 治水兴水是中华民族绵延千年的伟大实践, 承载着深厚的文化底蕴、不朽的精神力量, 更彰显着生生不息的民族担当。某校七年级学生开展“水润中华, 功在千秋”主题探究学习, 请你参与其中, 完成相关探究任务。

#### 【探源·水脉中的文化密码】

材料一: 公元前256年, 李冰父子主持修建都江堰水利工程。工程充分依托岷江地形、水文自然规律, 通过鱼嘴分水、飞沙堰泄洪、宝瓶口引水的精妙设计, 实

(1) 结合材料一, 运用“历久弥新的思想理念”相关知识, 分析

<p>现自动分水、排沙、灌溉，彻底改善了成都平原的生态与农耕条件，让此地成为富庶的“天府之国”。李冰总结凝练出“深淘滩，低作堰”的治水理念，遵循岷江洪枯变化的自然规律，因地制宜治水，实现了治水利民、人与自然和谐共生的千年智慧。</p>	<p>都江堰工程蕴含的文化密码。（4分）</p>
<p style="text-align: center;"><b>【追问·治水中的精神力量】</b></p> <p><b>材料二：</b>20世纪60年代，河南林县常年干旱缺水，百姓生产生活饱受困扰。为破解缺水困境，林县人民不畏艰难、迎难而上，历时近十年，凭借双手和简易工具，在太行山悬崖峭壁上开凿出全长1500公里的“人工天河”红旗渠，结束了当地“十年九旱”的历史。红旗渠的建成，创造了人间水利奇迹，生动诠释了林县人民不认命、不服输、战天斗地、艰苦奋斗的英雄气概。</p>	<p>（2）红旗渠缔造的伟大奇迹正是中华传统美德力量的生动诠释。请结合所学知识，谈谈你对这一观点的理解。（4分）</p>
<p style="text-align: center;"><b>【践行·青春中的责任担当】</b></p> <p>在探究学习成果交流会上，围绕“初中生能为治水护水做什么”，同学们展开讨论：</p> <div style="text-align: center;">  <p>小石：治水护水是国家和工程建设者的事，初中生年纪小、能力弱，无需参与。</p> <p>小彭：治水兴水功在千秋，初中生虽年少，也能以自强之行践行护水责任、助力治水事业。</p> </div>	<p>（3）请选择其中任一观点，结合“做自强不息的中国人”相关知识进行评析。（5分）</p>

32.（11分）2026年1月1日起，新修订的《中华人民共和国治安管理处罚法》正式施行。阅读材料，回答问题。

**【因时而变·法立新规】**

新修订的《中华人民共和国治安管理处罚法》聚焦社会治理新问题、回应群众现实诉求：首次将校园欺凌纳入治安管理处罚范围，清晰界定行为标准、强化惩戒措施；同时针对无人机违规飞行、高空抛物等新兴违法行为细化处罚规则，补齐相关领域治理的法律短板。

（1）运用“日益完善的法律体系”相关知识，结合材料分析我国修订《治安管理处罚法》的必要性。（4分）

**【以案释法·明晰底线】**

法律的生命在于实施。某校学生小强长期对同学小宇实施言语辱骂、肢体推搡，还在网络群组发布丑化小宇的照片，致使小宇身心健康受损。新法施行后，小强的行为被认定为校园欺凌，公安机关依法对其作出拘留、罚款的行政处罚；学校结合《中华人民共和国预防未成年人犯罪法》，对小强开展专门矫治教育。

(2) 结合“远离违法犯罪”的相关知识，分析说明小强为何既要受到行政处罚，又要接受专门矫治教育。

(4分)

**【知行合一·拒绝欺凌】**

面对校园欺凌，有的学生隐忍退让，有的学生冲动报复，还有的学生冷眼旁观。守护校园平安，需要全体青少年共同行动。

行动宣言

面对校园欺凌，我承诺做到：

1. 不做施暴者，\_\_\_\_\_；
2. 不做受害者，\_\_\_\_\_；
3. 不做旁观者，\_\_\_\_\_；

(3) 请围绕“不做施暴者、不做受害者、不做旁观者”三个角度，写出青少年应对校园欺凌的行动宣言。

(3分)